

Guía de

Actividades

Primer grado

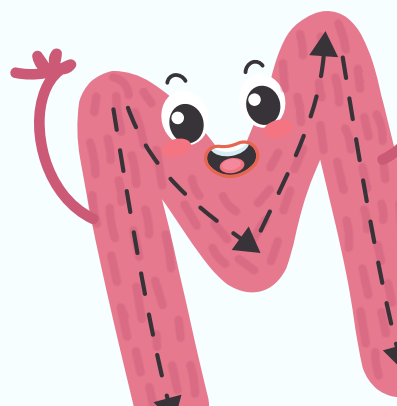




NOMBRE:

APELLIDO:

SECCIÓN:

3er lapso

AÑO ESCOLAR 2025-2026



Lunes
04/05/26

Martes
05/05/26

1) Ordenar los números y resolver la suma

36 + 52

51 + 32

67 + 12

45 + 12

52 + 46

16 + 62

21 + 70

88 + 11

15 + 22

31 + 21

82 + 13

74 + 25

1) Ordenar las palabras para formar la oración.



auto

rápido

El

es



es

mamá

alta

La




amarilla

La

es

flor




El

tiene

sueño

perro



feliz

El

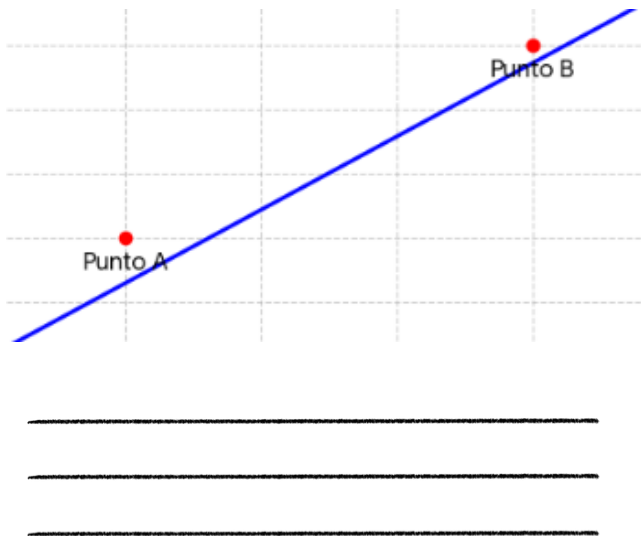
niño

corre

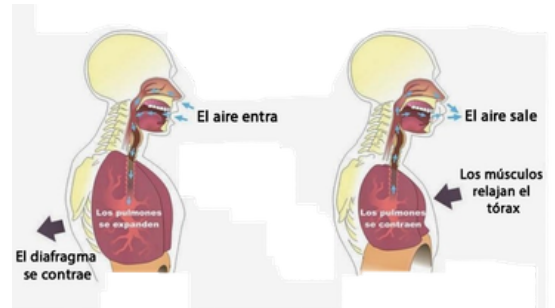
75) ¿Quién escribió Las Memorias de Mamá Blanca? Marca con una x la respuesta correcta.

a	Teresa de la Parra	
b	Isabel Allende	
c	Gabriela Mistral	
d	Rómulo Gallegos	

76) Por dos puntos, ¿Cuántas rectas pueden pasar?



78) ¿Qué gas expulsamos en la espiración?



79) ¿Quién fue el precursor de la independencia y creador de nuestra bandera? Colorea la respuesta correcta.

Simón Bolívar

Francisco de Miranda

Antonio José de Sucre



77) ¿Quién es el autor de la escultura Toro, ubicada en la Plaza monumental de Valencia? Colorea la respuesta correcta.

Wladimir Zabaleta

Isidore Bonheur

Arturo Di Modica



80) ¿Cuáles son las capitales de los siguientes estado?

Carabobo: _____

Bolívar: _____

Cojedes: _____

Falcón: _____

Delta Amacuro: _____

81) ¿Quién es el autor de Las lanzas coloradas? Colorea la respuesta correcta.

Miguel Otero Silva

Gabriel García Márquez

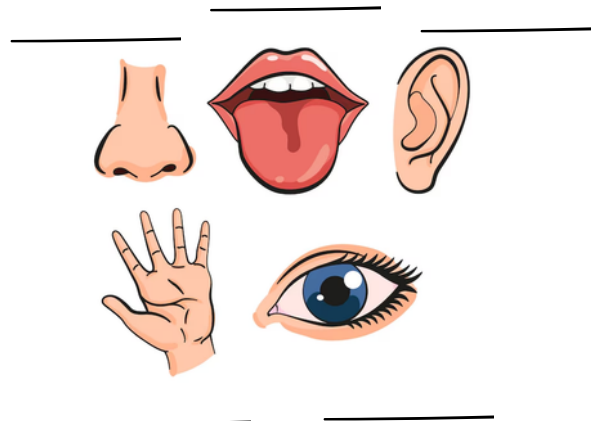
Arturo Uslar Pietri



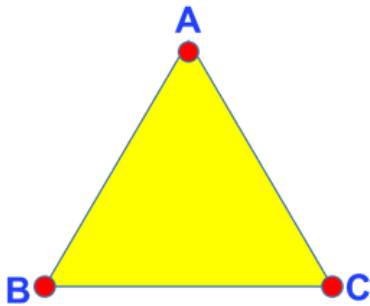
83) ¿Quién es el arquitecto de la Plaza Monumental de Valencia?



84) ¿Cuáles son los cinco sentidos?



82) ¿Cuántos lados tiene un triángulo?



1) Resolver las siguientes sustracciones.

$$\begin{array}{r} 68 \\ -41 \\ \hline \end{array}$$

$$\begin{array}{r} 66 \\ -22 \\ \hline \end{array}$$

$$\begin{array}{r} 55 \\ -31 \\ \hline \end{array}$$

$$\begin{array}{r} 59 \\ -37 \\ \hline \end{array}$$

$$\begin{array}{r} 98 \\ -14 \\ \hline \end{array}$$

$$\begin{array}{r} 48 \\ -31 \\ \hline \end{array}$$

$$\begin{array}{r} 83 \\ -43 \\ \hline \end{array}$$

$$\begin{array}{r} 77 \\ -30 \\ \hline \end{array}$$

$$\begin{array}{r} 96 \\ -15 \\ \hline \end{array}$$

$$\begin{array}{r} 42 \\ -21 \\ \hline \end{array}$$

$$\begin{array}{r} 58 \\ -35 \\ \hline \end{array}$$

$$\begin{array}{r} 66 \\ -13 \\ \hline \end{array}$$

$$\begin{array}{r} 89 \\ -41 \\ \hline \end{array}$$

$$\begin{array}{r} 47 \\ -26 \\ \hline \end{array}$$


$$\begin{array}{r} 97 \\ -13 \\ \hline \end{array}$$

**Miércoles
06/05/26**

**Jueves
07/05/26**

1) Realizar un dibujo indicando un elemento natural CON VIDA y un elemento natural SIN VIDA, utiliza tu cuaderno para guiarte.

Con vida



Sin vida



Jueves
07/05/26

Viernes
08/05/26

Según la siguiente imagen redacta un texto instruccional

¿Cómo Cruzar la Calle de Forma Segura?

1) Enumerar las acciones que debes realizar para cruzar la calle de forma segura

Acciones que Debo Realizar:



2) Redactar un texto corto utilizando las palabras enumeradas en el cuadro anterior sobre cómo debemos cruzar la calle de manera segura



Jueves
07/05/26

Viernes
08/05/26

1) Escribir tres características del aire.

2) Responder:

a) ¿Hay fuentes de contaminación del aire en tu localidad?, ¿Cuáles son?

b) ¿Cómo podemos evitar la contaminación del aire?

Lunes
11/05/26

Martes
12/05/26

1) Escribir una norma para el hablante y una norma para el oyente.

2) Rodear de color rojo las fórmulas de tratamiento y de color verde las de cortesía.

Tú

Buenos días

Usted

Buenos tardes

Señora

Gracias

1) Completar la serie numérica

240 $\xrightarrow{+5}$ $\xrightarrow{+5}$ $\xrightarrow{+5}$ $\xrightarrow{+5}$ $\xrightarrow{+5}$

428 $\xrightarrow{+2}$ $\xrightarrow{+2}$ $\xrightarrow{+2}$ $\xrightarrow{+2}$ $\xrightarrow{+2}$

615 $\xrightarrow{-5}$ $\xrightarrow{-5}$ $\xrightarrow{-5}$ $\xrightarrow{-5}$ $\xrightarrow{-5}$

144 $\xrightarrow{-2}$ $\xrightarrow{-2}$ $\xrightarrow{-2}$ $\xrightarrow{-2}$ $\xrightarrow{-2}$

297 $\xrightarrow{+3}$ $\xrightarrow{+3}$ $\xrightarrow{+3}$ $\xrightarrow{+3}$ $\xrightarrow{+3}$

2) Escribir el número anterior y posterior

228 432

315 750

1) Escribir en números ordinales

Vigésimo

Octavo

Décimo sexto

Décimo primero

Vigésimo cuarto

Noveno

2) Escribir cómo se leen los siguientes números ordinales.

6°

12°

21°

14°

1) ¿Para qué sirven las descripciones?

2) Describir la siguiente imagen.



1) Unir con una línea los número con su lectura.

Seiscientos trece

334

139

Ciento treinta y nueve

Trescientos treinta y cuatro

613

964

Trescientos tres

Ciento dieciocho

250

303

Novcientos sesenta y cuatro

Doscientos cincuenta

118

580

Quinientos ochenta

2) Lee y escribe el número

Trescientos veintinueve

Cuatrocientos dieciocho

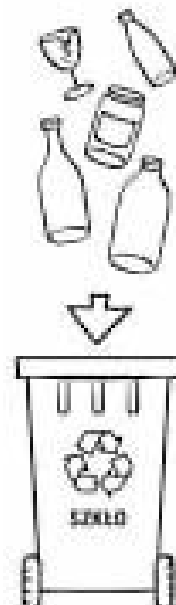
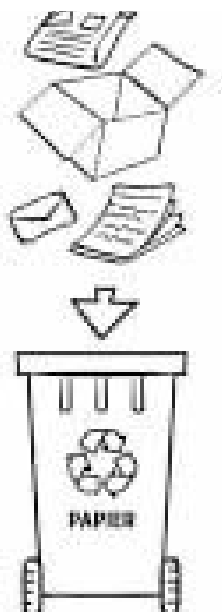
Ciento dos

Doscientos setenta y cinco

1) Escribir dos recomendaciones para conservar el ambiente.

2) Describir cómo sería nuestro ambiente si estuviera totalmente contaminado .

3) Colorear cada contenedor del color que corresponda.



Escribir correctamente

Reglas gramaticales



¡Escribe **m** antes de **p** o **b**!

1) Subrayar las palabras escritas con mp o mb, y escribelas en el lugar correcto de la tabla.

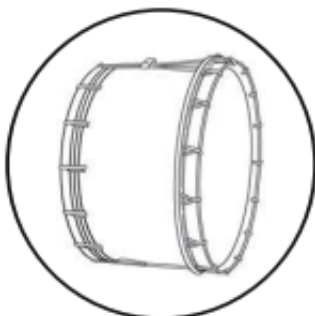
Luisa ha comprado un impermeable nuevo.
 Mientras camina, contempla el cambio del paisaje.
 Las hojas crujen y el ambiente es templado.
 Aunque la lluvia es imparable, ella no se impacienta.
 Hoy lleva también una bufanda y guantes.
 Al cabo de un tiempo, se siente más tranquila.
 ¡Qué cómodo paseo!

mb	mp


2) Construir una frase con cada imagen:



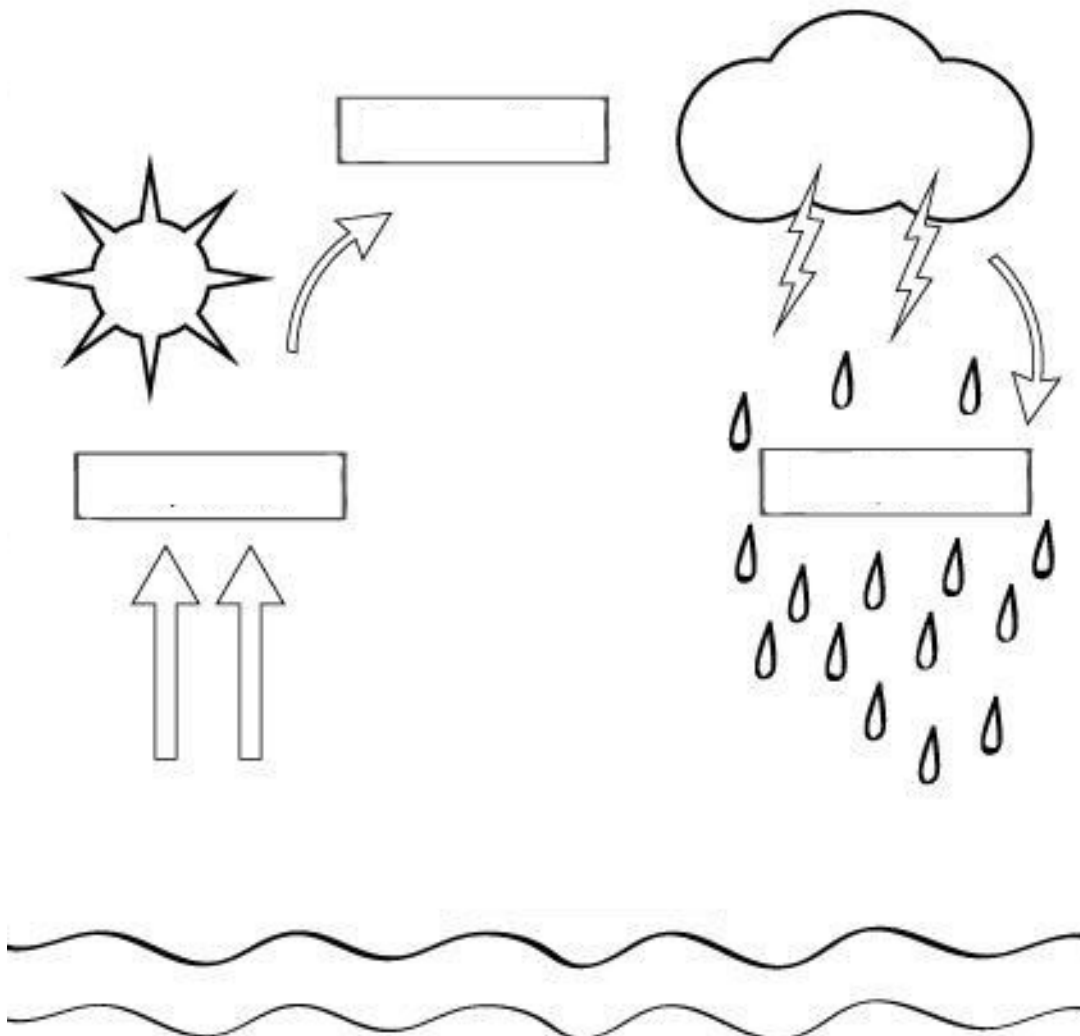




1) Observar las imágenes. Escribe si el agua es dulce o salada.



2) Escribir el nombre de cada uno de los procesos del ciclo del agua.



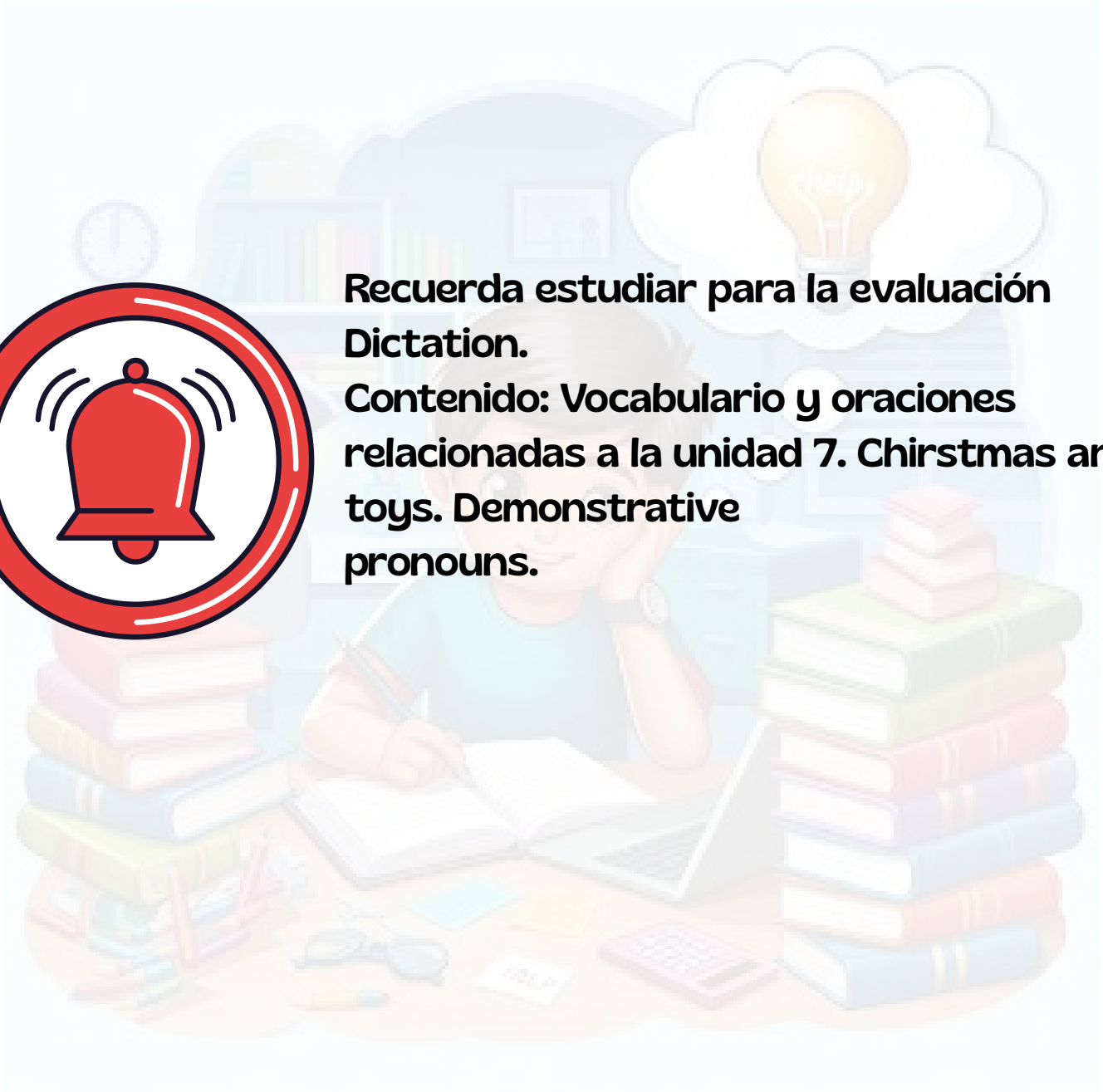
Jueves
14/05/26

Viernes
15/05/26



Recuerda estudiar para la evaluación Dictation.

Contenido: Vocabulario y oraciones relacionadas a la unidad 7. Chirstmas and toys. Demonstrative pronouns.



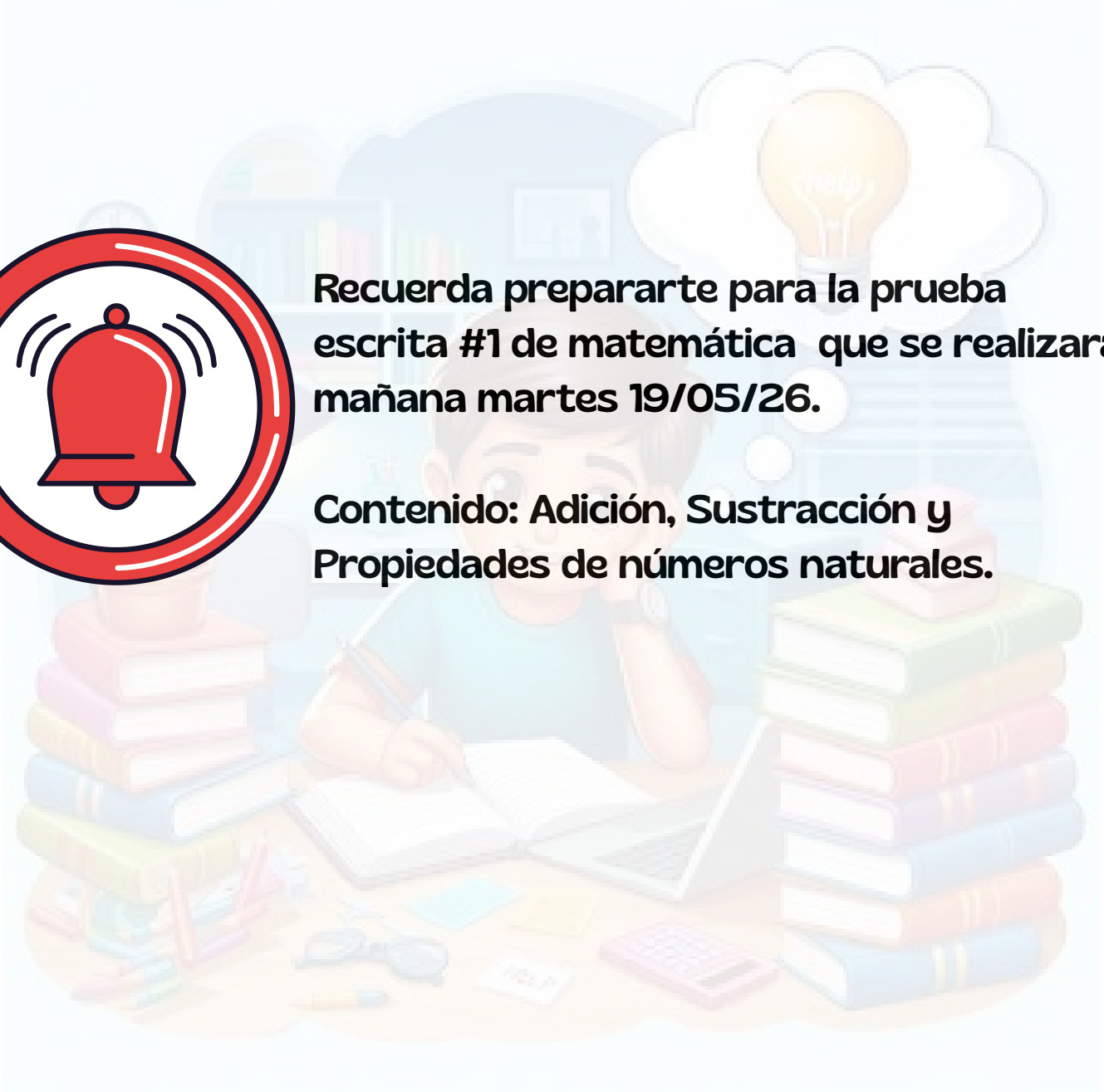
Lunes
18/05/26

Martes
19/05/26



Recuerda prepararte para la prueba escrita #1 de matemática que se realizará mañana martes 19/05/26.

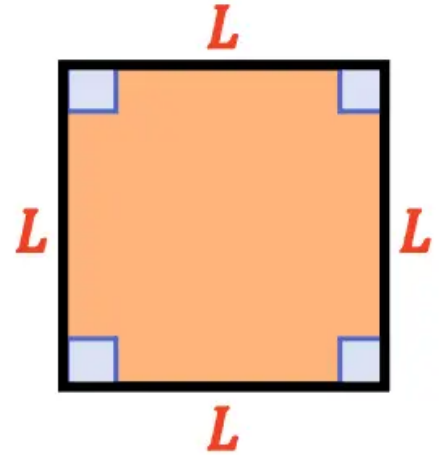
Contenido: Adición, Sustracción y Propiedades de números naturales.



85) ¿Dónde y en qué fecha nació Andrés Bello?



88) ¿Cuántos lados tiene un cuadrado?



86) ¿Cuáles son las capitales de los siguientes estado?

Distrito Capital: _____

Guárico: _____

Lara: _____

Merida: _____

Miranda: _____

87) ¿Quién es el autor del libro Cuando quiero llorar no lloro? Colorea la respuesta correcta

Miguel Otero Silva

Rómulo Gallegos

Arturo Uslar Pietri



89) ¿Quién inauguró el 2 de marzo de 1974 el Poliedro de Caracas? Marca con una x la respuesta correcta.

a	Marcos Pérez Jiménez	<input type="checkbox"/>
b	Rafael Caldera	<input type="checkbox"/>
c	Jaime Lusinchi	<input type="checkbox"/>
d	Carlos Andrés Pérez	<input type="checkbox"/>

90) ¿En qué estados se encuentran los cuerpos en la naturaleza?

93) ¿Quién escribió el libro La Tuna de Oro?




91) Nombra dos maestros de Simón Bolívar.



94) ¿Cuántos lados tiene un pentágono?

Pentágono regular



92) ¿Cuáles son las capitales de los siguientes estado?

Monagas: _____

Nueva Esparta: _____

Portuguesa: _____

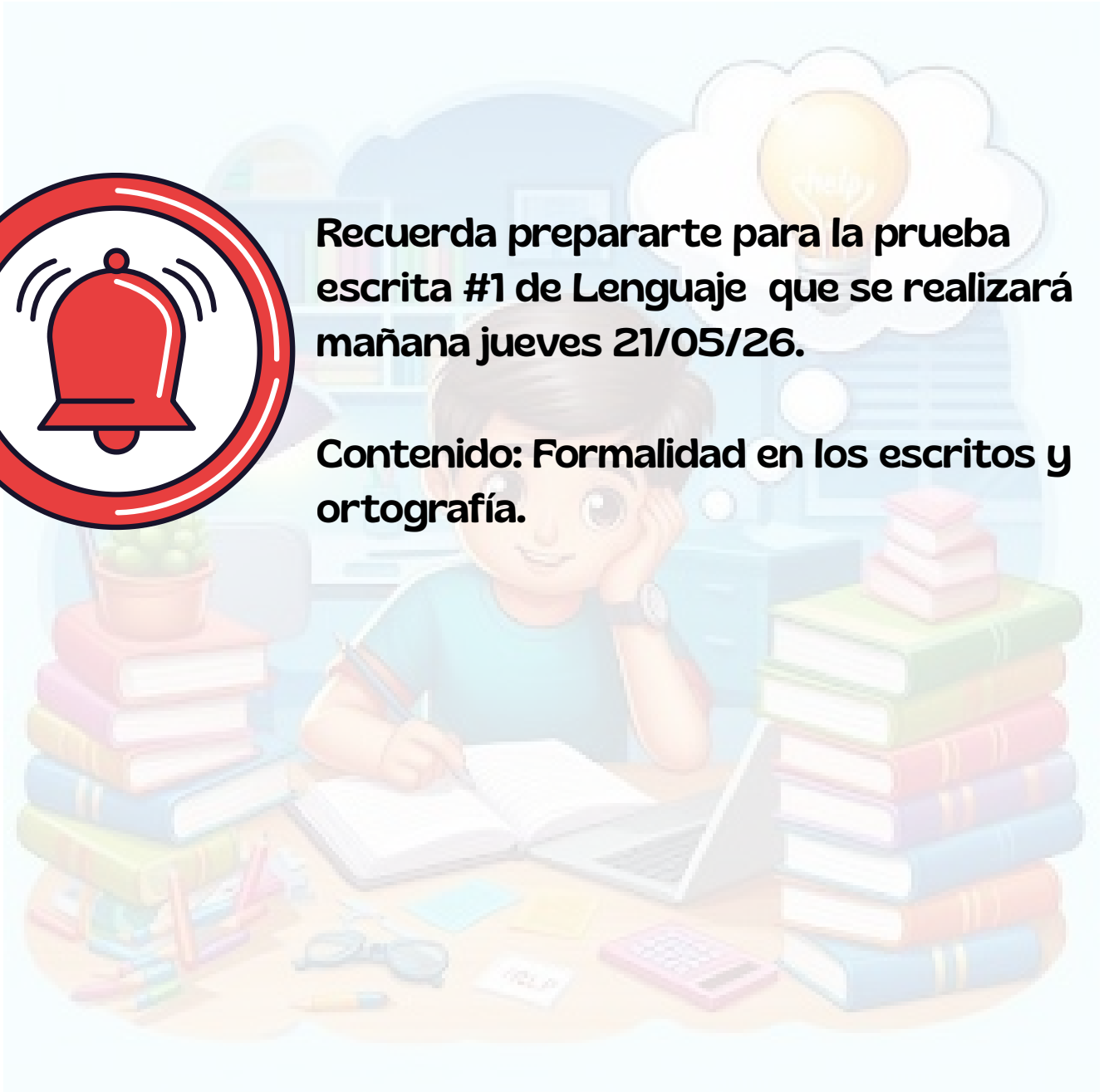
Sucre: _____

Táchira: _____



Recuerda prepararte para la prueba escrita #1 de Lenguaje que se realizará mañana jueves 21/05/26.

Contenido: Formalidad en los escritos y ortografía.



1) Escribir las palabras en el lugar correcto de la frase.

Colorea de verde las palabras que usan 'mp' y de rojo las escritas con 'mb'.

campaña

embajadora

combate

bombilla

amplitud

bombilla

campeonato

cumbre

hambre

rompió

compró

tambor

cumpleaños

lámpara

La _____ para cuidar el planeta usa una _____ ecológica.

En el _____, el equipo _____ todos los récords.

La _____ de la montaña nos permitió ver la _____ desde lejos.

Mi tío compró una _____ muy bonita para su oficina.

Durante el _____, los soldados encendieron una pequeña _____ en el campamento.

1) Colorear las imágenes. Luego, escribe el uso que se le da al agua en cada caso.



2) Escribir dos acciones para mantener limpia el agua.

Lunes
25/05/26Martes
26/05/26

PROBLEMAS

1) Carlos ha comprado 20 barajitas para su colección. Ya tenía 16 barajitas. ¿Cuántas tiene ahora en total?

Datos

Operación

2) Tengo en mi cartera 64 bolívares y me he comprado un juego de cartas que me ha costado 22 bolívares. ¿Cuánto dinero me queda en la cartera?

Datos

Operación

3) En mi jardín tengo 38 plantas y mi madre quiere comprar 21 más. ¿Cuántas plantas tendremos en total?

Datos

Operación

Palabras con m antes de P o B

1) Encontrar las palabras en la sopa de letras.

b	a	m	p	l	i	t	u	d
o	s	m	w	t	n	l	j	e
m	c	e	b	a	g	l	s	c
b	a	j	b	i	f	h	z	o
i	m	q	w	w	g	b	x	m
l	p	d	n	w	r	u	y	b
l	a	h	m	h	y	y	o	a
a	n	y	p	n	m	p	a	t
t	a	r	o	m	p	e	r	e

- Combate
- Bombilla
- Ambiguo
- Romper
- Embajador
- Campaña
- Amplitud
- Cumpleaños

2) Completar las palabras de las siguientes imágenes



tie_____o



bo_____ero



tro_____eta



ca_____ana



ho_____re



so_____rero



so_____ra



co_____rar



ta_____or

Fecha de elaboración

Martes
26/05/26

Fecha de entrega

Miércoles
27/05/26

95) ¿Cuál fue la primera estación de radio que comenzó a sonar en el estado Carabobo?



98) ¿Cuáles son las capitales de los siguientes estado?

Trujillo: _____

Vargas: _____


Yaracuy: _____

Zulia: _____

96) ¿Qué son los espejos?



99) ¿Quién es el autor de País Portátil? Colorea la respuesta correcta.



Salvador Garmendia

Adriano González León

Eugenio Montejo

97) ¿Qué tiempo duró la II República de Venezuela? Colorea la respuesta correcta.



Cinco años
(unos 60 meses)

Tres años
(unos 36 meses)

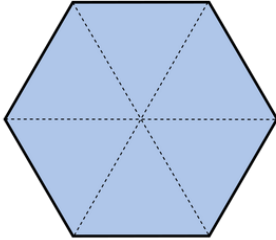
Un año
(unos 15 meses)

Martes
26/05/26

Miércoles
27/05/26

100) ¿Cuántos lados tiene un hexágono?

Hexágono
regular



103) Venezuela antes de su independencia era una colonia de que imperio?



101) ¿Cómo se llamó la primera estación de radio FM que se escuchó en Valencia?



104) ¿Cuáles son los dos cuerpos celestes que producen las mareas?

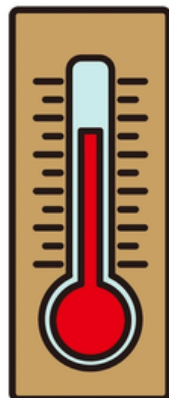


102) ¿Qué instrumento se utiliza para medir la temperatura de los cuerpos? Colorea la respuesta correcta.


Barómetro

Higrómetro

Termómetro



21. Match with a line the picture with its noun.



- a. A robot
- b. A scooter
- c. A bell
- d. A snowman



22. What do we celebrate on December 25th?

- a. Easter
- b. Christmas



- c. Father's Day



23. Translate "Este es un libro" to English.

24. Guess the riddle: You can call me if you need help or there is a fire, I save people lives; Who am I?

- a. A chef
- b. An artist
- c. A firefighter.



25. Translate "El ave puede volar" to English.

26. Guess the riddle: I'm gray, my ears are big and I have a long nose. Who am I?

- a. A zebra
- c. A capybara
- d. An elephant



Jueves
28/05/26Viernes
29/05/26

PROBLEMAS

1) En una granja hay 56 gallinas y 26 patos. ¿Cuántos animales hay en total?

Datos

Operación

2) Mi abuela me ha dado 50 bolívares y yo me he gastado 13 bolívares en un cómic. ¿Cuánto dinero me queda?

Datos

Operación

3) Susana ha recogido 35 manzanas y su hermano 27 manzanas más que ella. ¿Cuántas manzanas en total ha recogido su hermano?

Datos

Operación

1) Escribir el nombre de algunos elementos naturales.

2) Escribir una historia donde los protagonistas sean elementos sociales.

3) Rodear con un círculo de color azul los elementos naturales y con círculo de color rojo los elementos sociales.



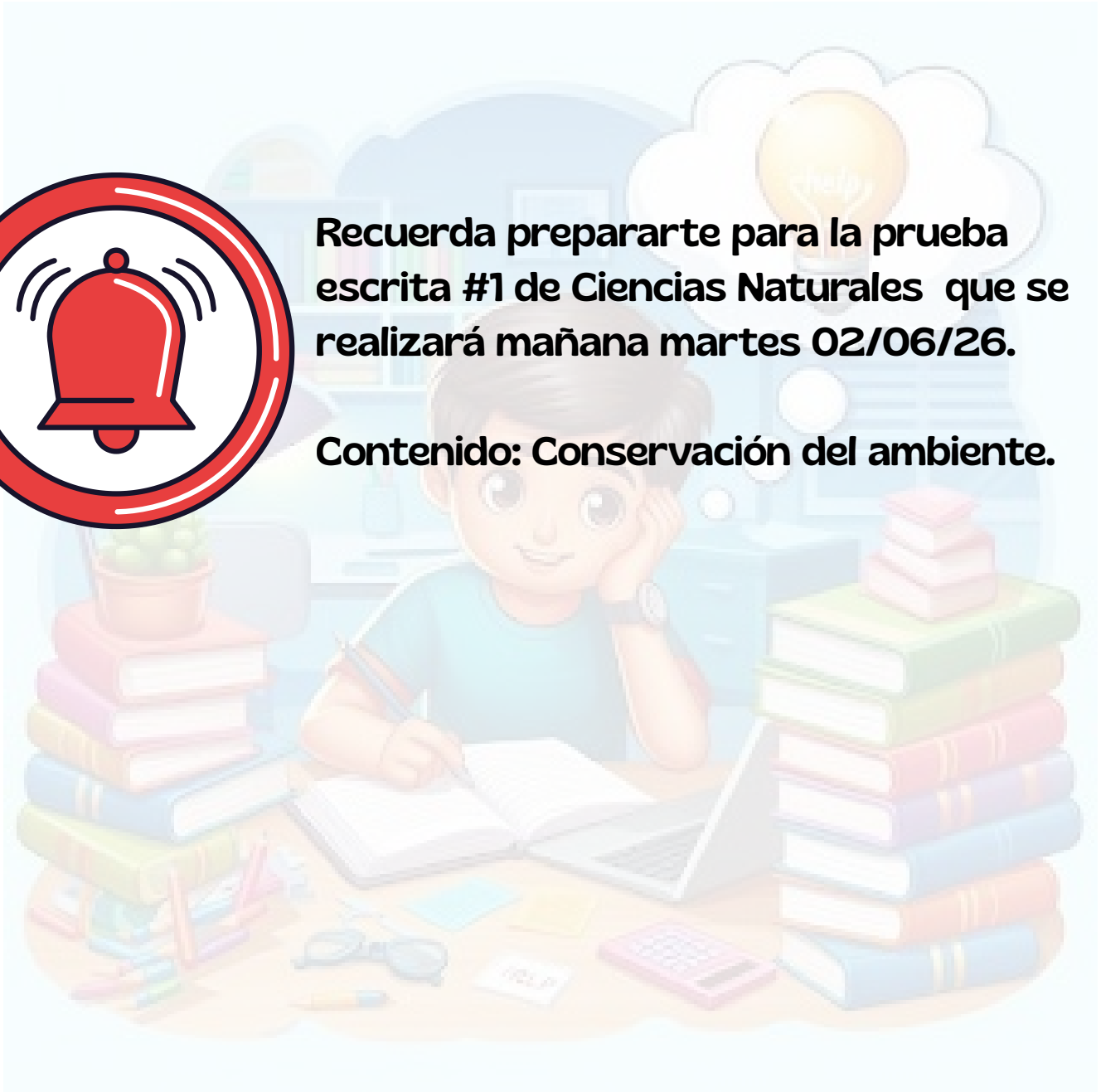
**Lunes
01/06/26**

**Martes
02/06/26**



Recuerda prepararte para la prueba escrita #1 de Ciencias Naturales que se realizará mañana martes 02/06/26.

Contenido: Conservación del ambiente.



Martes
02/06/26Miércoles
03/06/26

1) Realizar las siguientes adiciones.

$$\begin{array}{r} \text{C D U} \\ 296 \\ +467 \\ \hline \end{array}$$

$$\begin{array}{r} \text{C D U} \\ 355 \\ +458 \\ \hline \end{array}$$

$$\begin{array}{r} \text{C D U} \\ 138 \\ +426 \\ \hline \end{array}$$

$$\begin{array}{r} \text{C D U} \\ 484 \\ +540 \\ \hline \end{array}$$

$$\begin{array}{r} \text{C D U} \\ 457 \\ +270 \\ \hline \end{array}$$

$$\begin{array}{r} \text{C D U} \\ 759 \\ +594 \\ \hline \end{array}$$

$$\begin{array}{r} \text{C D U} \\ 820 \\ +608 \\ \hline \end{array}$$

$$\begin{array}{r} \text{C D U} \\ 613 \\ +269 \\ \hline \end{array}$$

$$\begin{array}{r} \text{C D U} \\ 254 \\ +85 \\ \hline \end{array}$$

$$\begin{array}{r} \text{C D U} \\ 864 \\ +421 \\ \hline \end{array}$$

$$\begin{array}{r} \text{C D U} \\ 845 \\ +95 \\ \hline \end{array}$$

$$\begin{array}{r} \text{C D U} \\ 505 \\ +350 \\ \hline \end{array}$$

1) Narrar un hecho que te haya ocurrido ayer.

2) Describir tu animal preferido y dibujalo.



3) Inventar una adivinanza relacionada con la imagen.



1) Ordenar los números y resuelve la suma.

$172 + 405$

$349 + 250$

$277 + 421$

$463 + 333$

C	D	U
+		

C	D	U
+		

C	D	U
+		

C	D	U
+		

2) Ordenar los números y resuelve la resta.

$276 - 141$

$368 - 233$

$458 - 323$

$276 - 141$

C	D	U
-		

C	D	U
-		

C	D	U
-		

C	D	U
-		

3) Escribe los números que faltan en la resta.

C	D	U
3	6	4
-	1	□

2	3	0

C	D	U
2	□	7
-	1	3

1	3	0

C	D	U
□	7	□
-	1	5

4	2	5

C	D	U
4	8	4
-	□	5

1	3	2

1) Cuáles equipos organizan a la comunidad escolar?

2) Escribir una oración con los siguientes pares de palabras.

a) Profesor - estudiantes.

b) Escuela - obreros.

c) Representantes - director.

1) Ordenar las palabras para formar oraciones:

de - gaviota - el - Una - helado - robó - Juan.

un - compró - Él - helado.

triste. - muy - quedó - Juan

Juan - playa. - a - fue - la

2) Describir cada imagen, usando las oraciones que formaste.









1) Observar la imagen y completa las oraciones.


a) El niño se encuentra a la _____ de la niña.

b) El niño sostiene la jarra con su mano _____

c) La niña se encuentra hacia mi mano _____



2) Observar las imágenes y completa las oraciones.



a) Hay dos huevos _____ del cartón.

b) ¿Cuántos huevos hay dentro del cartón? _____



c) Hay seis juguetes _____ de la caja.

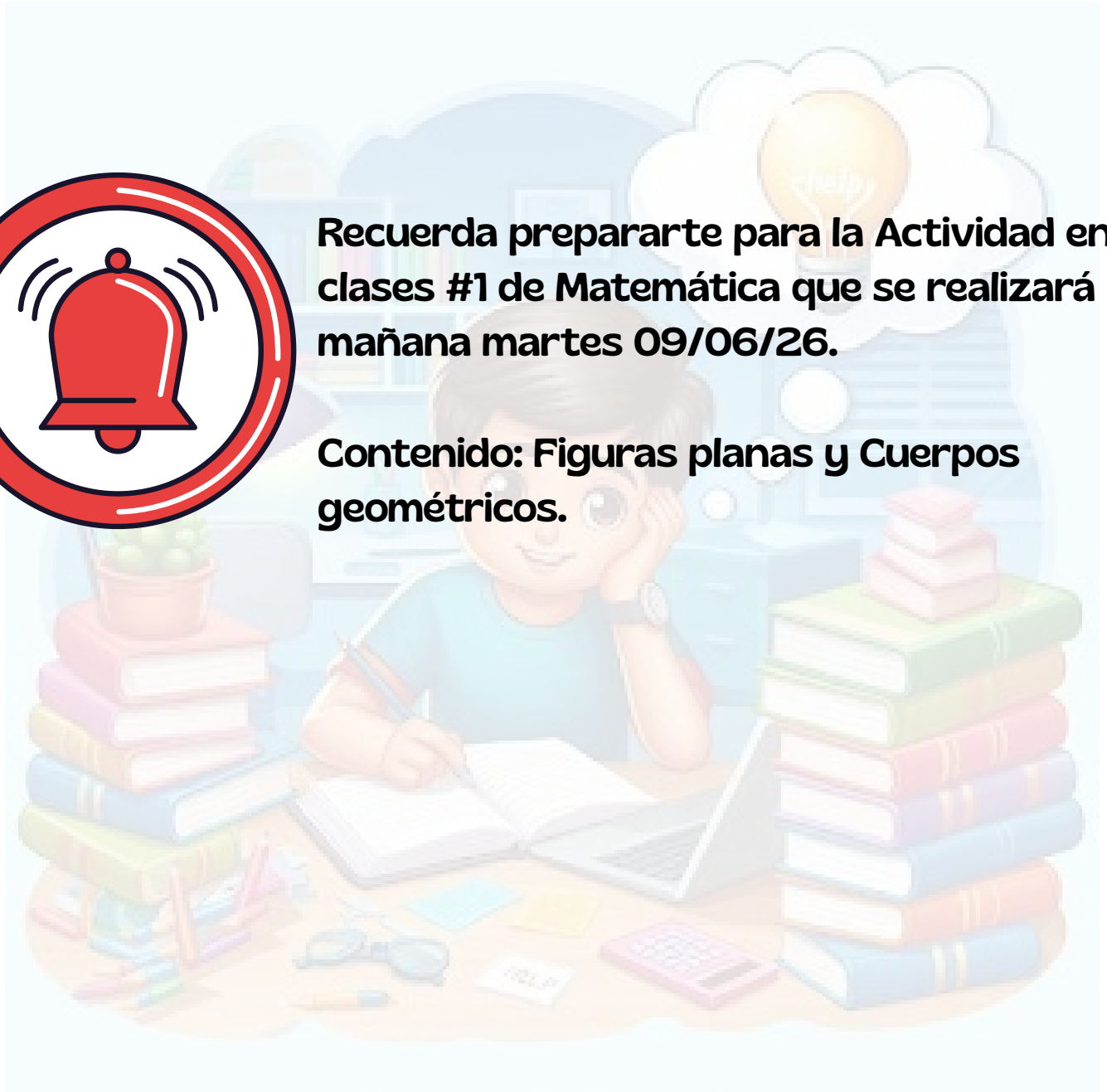
Lunes
08/06/26

Martes
09/06/26




Recuerda prepararte para la Actividad en clases #1 de Matemática que se realizará mañana martes 09/06/26.


Contenido: Figuras planas y Cuerpos geométricos.



1) Unir puntos con la regla y formar un rectángulo de color verde, dos cuadrado de color rojo y un triángulo de color azul.



2) Trazar tres círculos de diferentes tamaño.





1) Completar cada oración.

a) Ayer fui a _____

b) Hoy estoy en _____

c) Mañana ire a _____

2) Enumerar la historia según corresponda.



3) Narrar alguna situación que te haya ocurrido ayer.

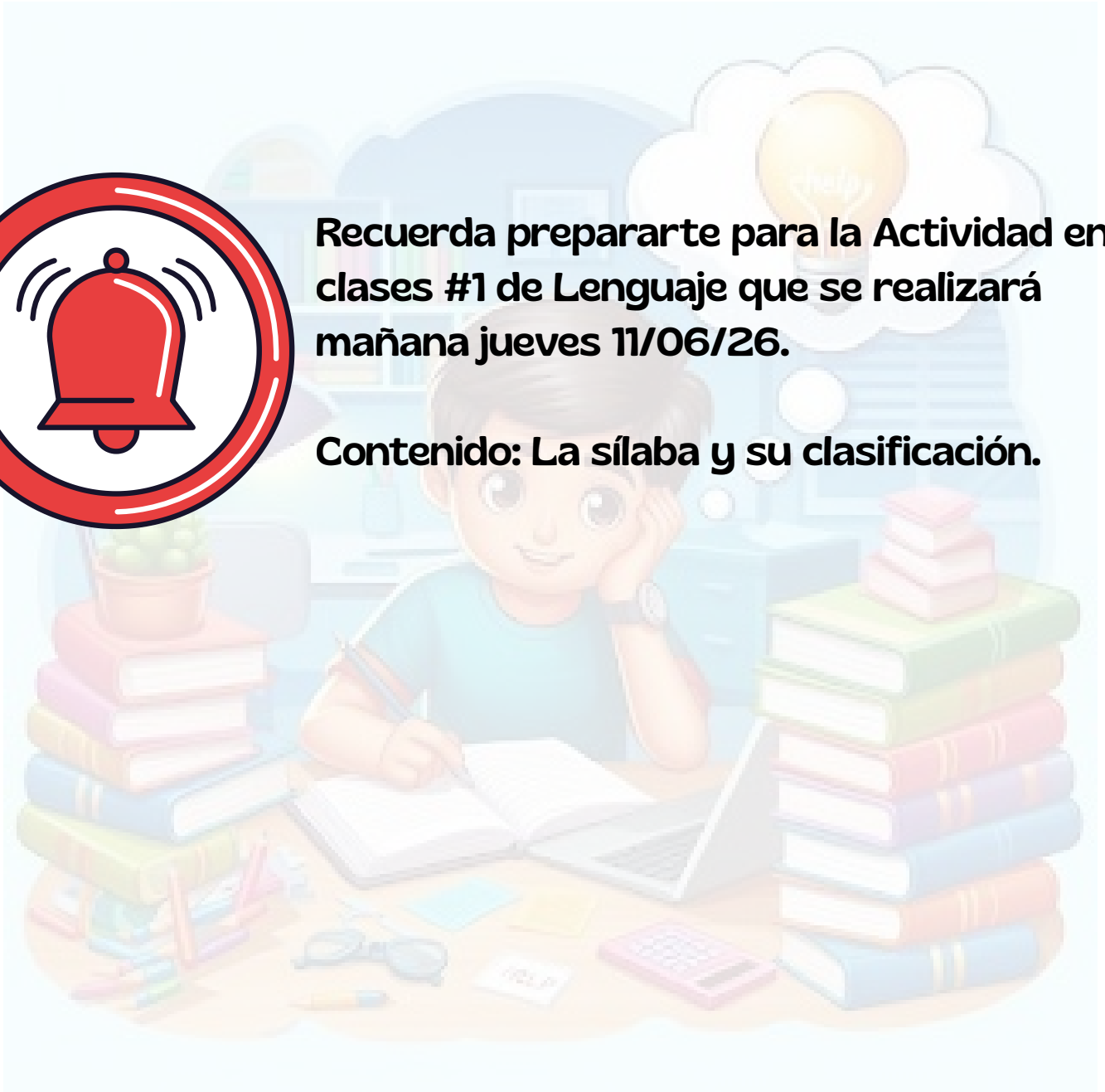
Miércoles
10/06/26

Jueves
11/06/26



Recuerda prepararte para la Actividad en clases #1 de Lenguaje que se realizará mañana jueves 11/06/26.

Contenido: La sílaba y su clasificación.



1) Escribir las siguientes palabras separando sus sílabas:



PAYASO

□ □ □



ABEJA

□ □ □



HORMIGA

□ □ □



CERDO

□ □



ELEFANTE

□ □ □ □



MALETA

□ □ □



GALLINA

□ □ □



TIJERAS

□ □ □



TELÉFONO

□ □ □ □



SILBATO

□ □ □



VESTIDO

□ □ □



CAMISA

□ □ □

1) Nombrar dos ambientes naturales y dos ambientes sociales que hayas visitado

Natural:

Social:

2) Colorear solo los elementos naturales vivos:



Semana 7

**Recordatorio
Cultura General 1**

Fecha de elaboración

**Lunes
15/06/26**

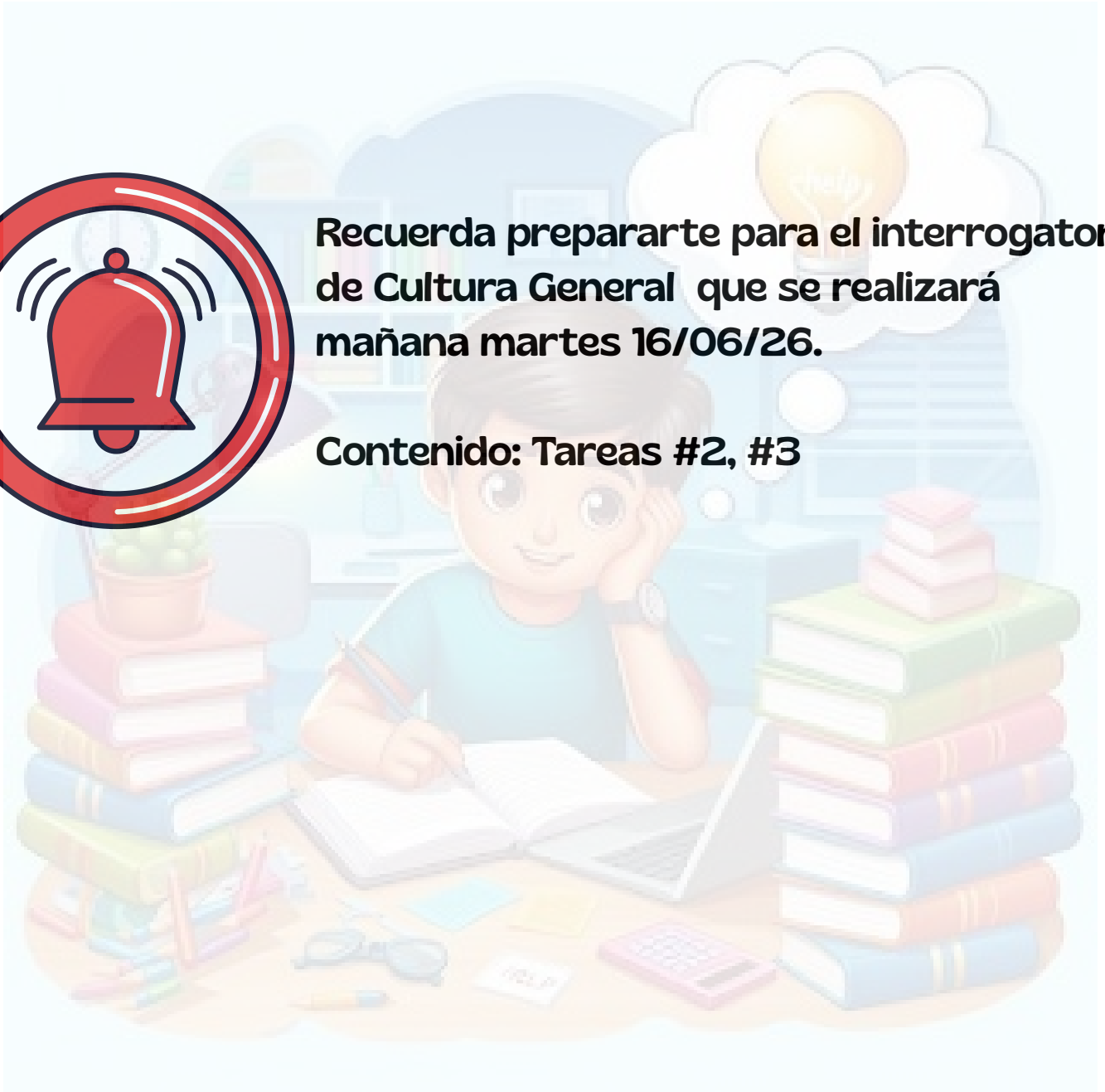
Fecha de entrega

**Martes
16/06/26**



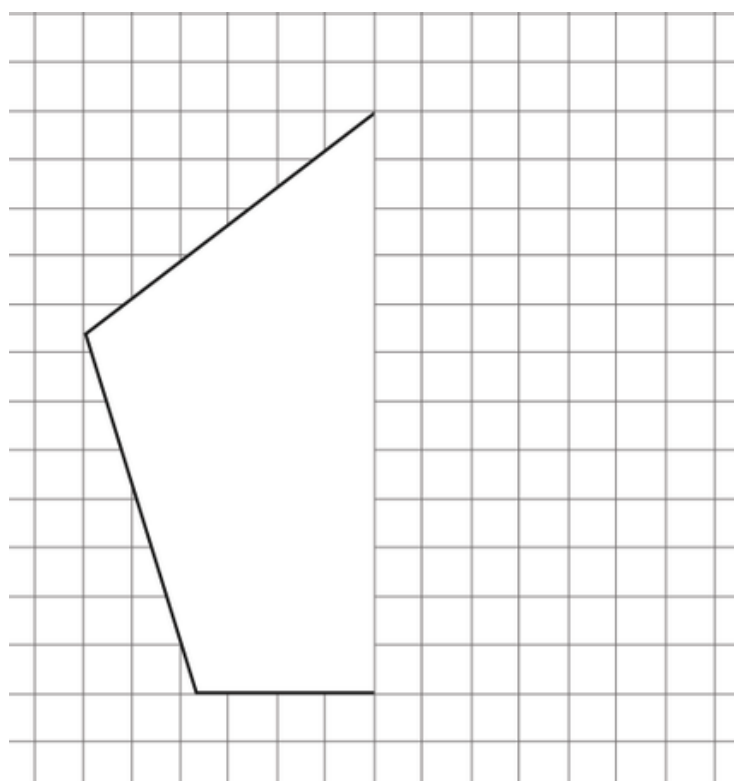
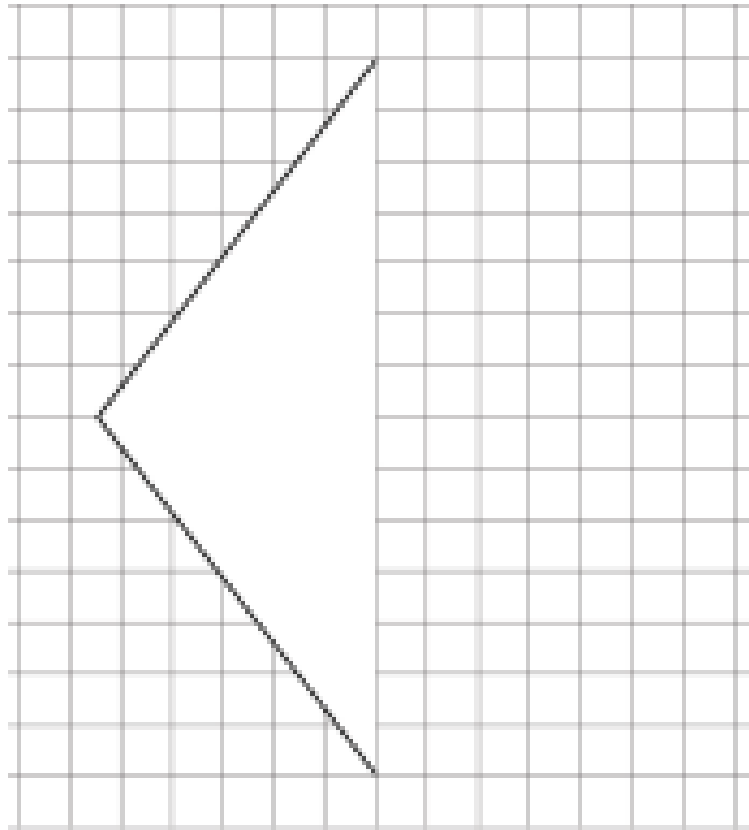
Recuerda prepararte para el interrogatorio de Cultura General que se realizará mañana martes 16/06/26.

Contenido: Tareas #2, #3



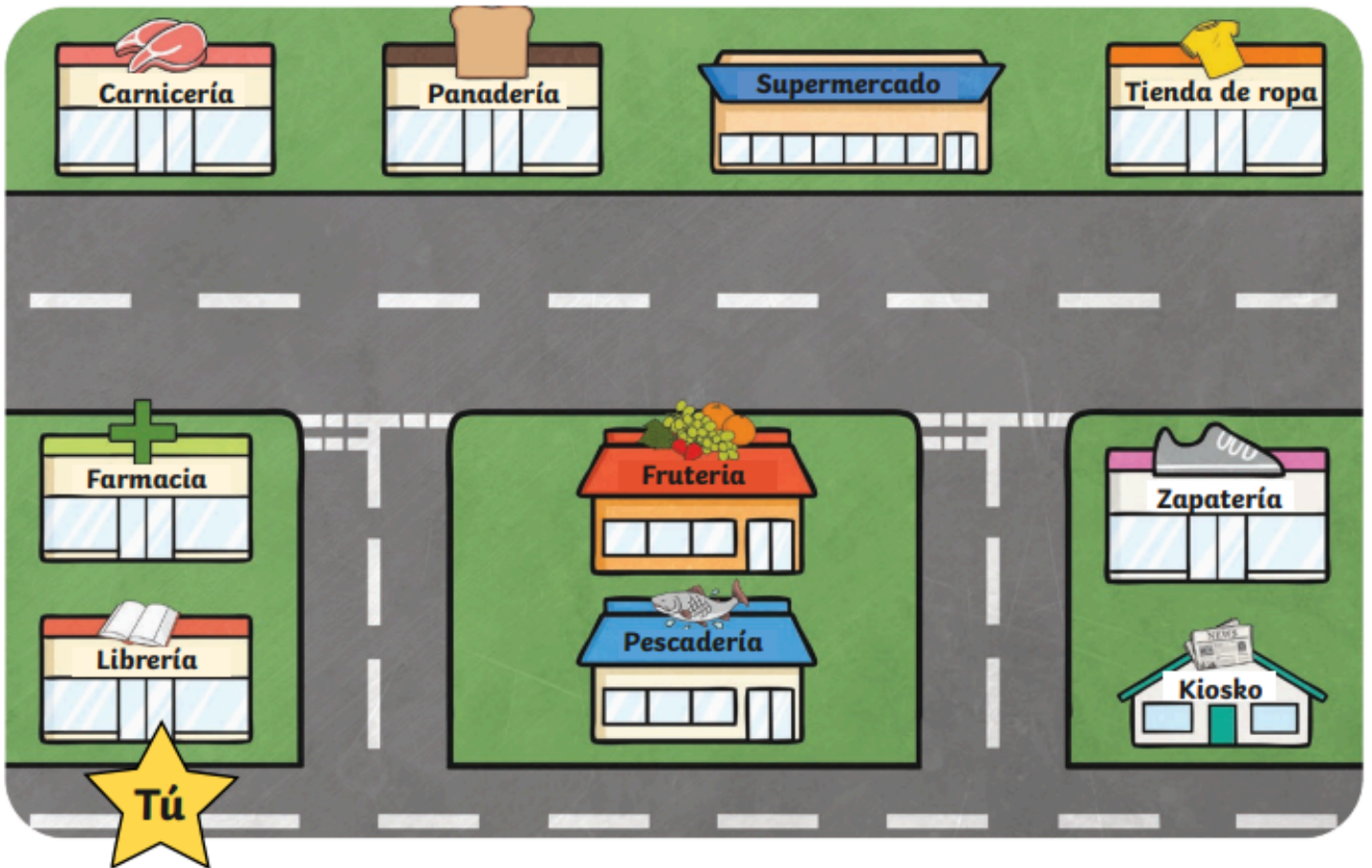
Línea de Simetría

1) Utilizar la cuadrícula para completar el dijo.



Orientación espacial

1) Escribir indicaciones para llegar a las tiendas. Observa el ejemplo. ¿Cómo llegas a ...?



Ejemplo: Camina a la esquina, da vuelta a la izquierda. Camina una cuadra, cruza la calle y la carnicería está a la izquierda.

La panadería: _____

El supermercado: _____

La zapatería: _____

La farmacia: _____

La tienda de ropa : _____

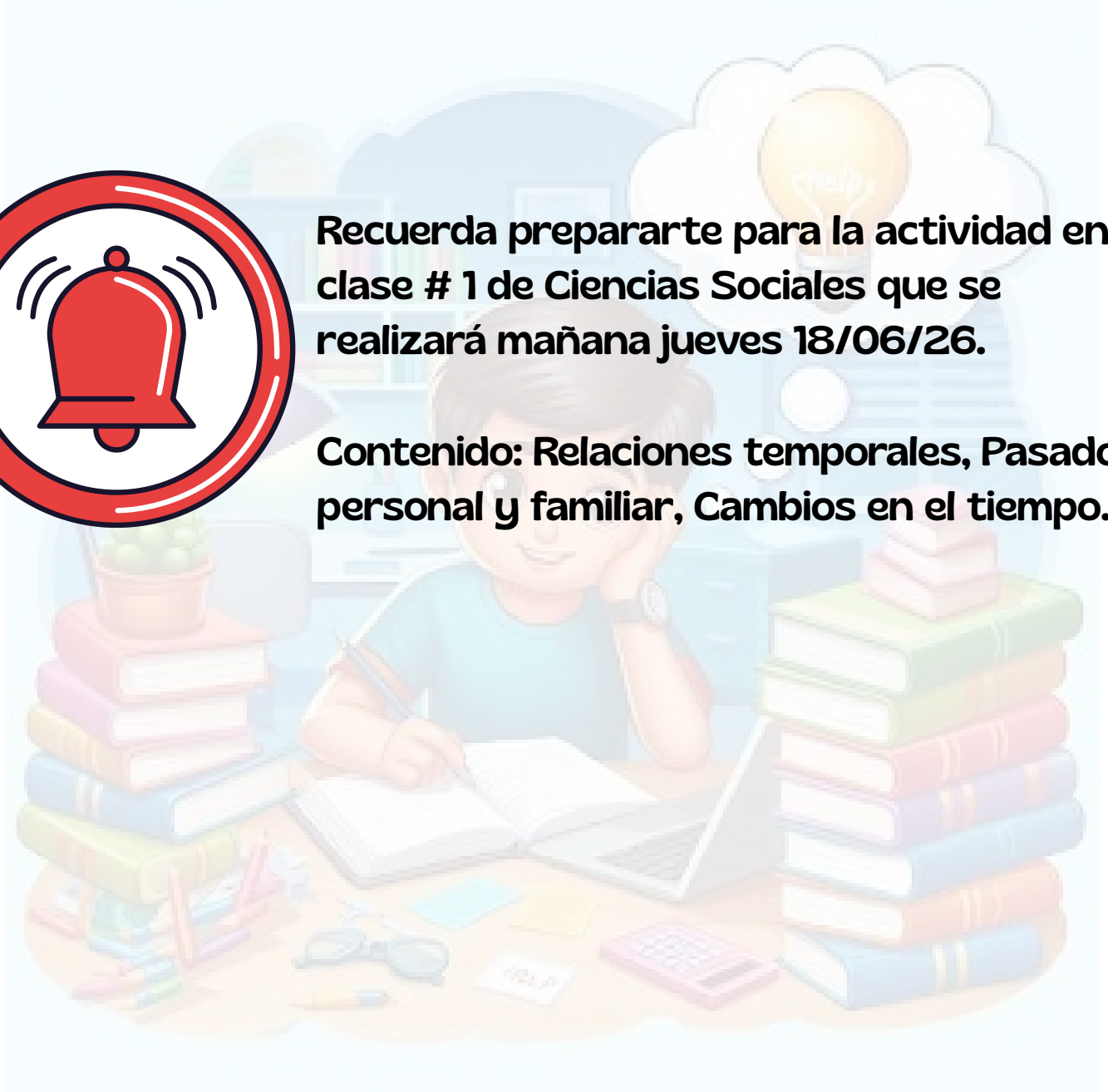
**Miércoles
17/06/26**

**Jueves
18/06/26**



Recuerda prepararte para la actividad en clase # 1 de Ciencias Sociales que se realizará mañana jueves 18/06/26.

Contenido: Relaciones temporales, Pasado personal y familiar, Cambios en el tiempo.



1) Separar en sílabas y escribir que tipo de palabra es según el número de sílabas que tiene:

montaña	mon - ta - ña	trisílaba
elfo	el - fo	bisílaba
dragón		
tres		
número		
mago		
oscuro		
escondite		
colgante		
árboles		
pedacitos		
amigo		
salamandras		
lagartijas		

1) Escribir una causa de cada tipo de contaminación.

Del agua: _____

Del aire: _____

Del suelo: _____

Sónica: _____

2) Explicar cómo deben actuar estos personajes para mantener el ambiente limpio.





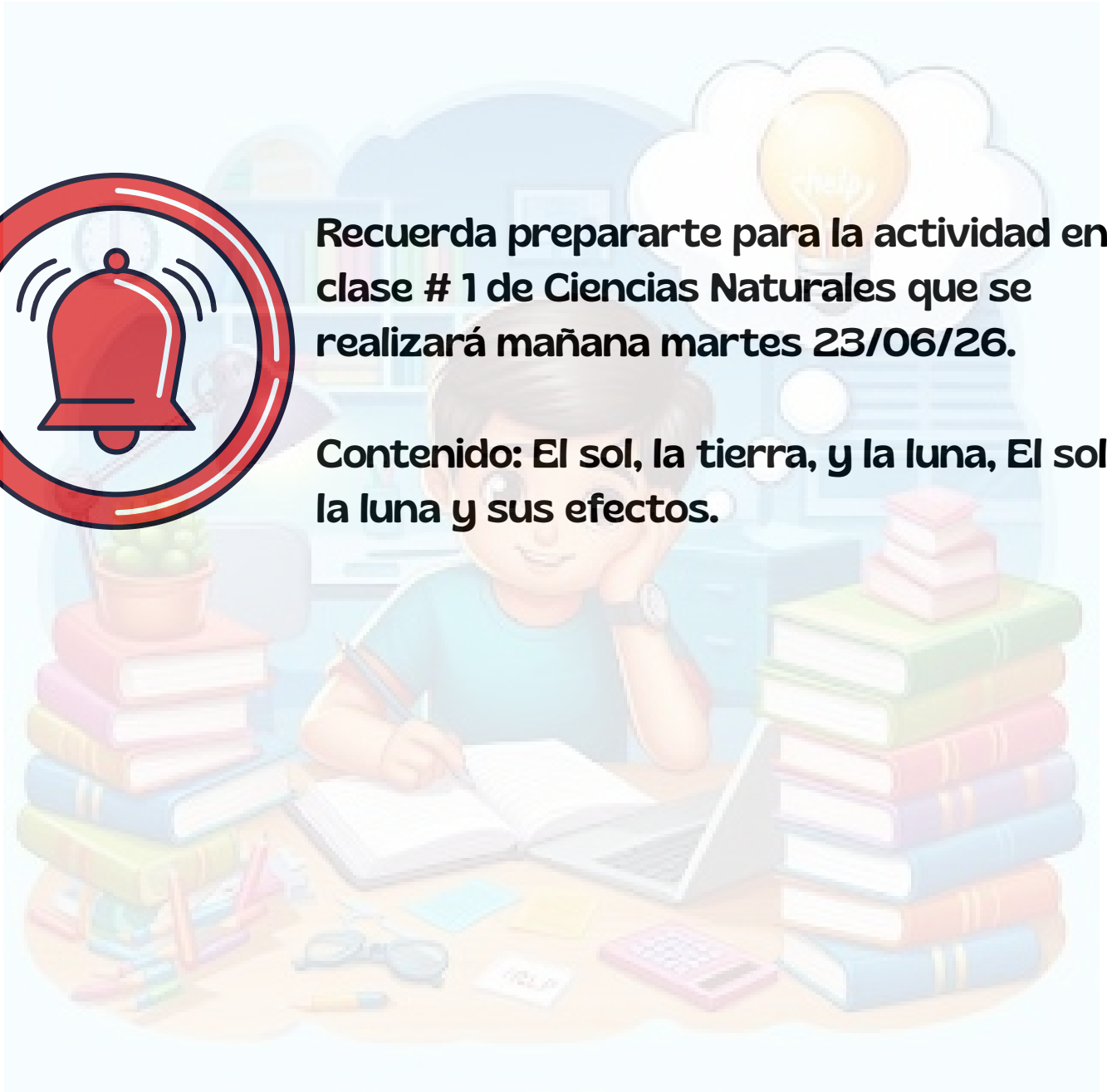
**Lunes
22/06/26**

**Martes
23/06/26**



Recuerda prepararte para la actividad en clase # 1 de Ciencias Naturales que se realizará mañana martes 23/06/26.

Contenido: El sol, la tierra, y la luna, El sol, la luna y sus efectos.



Martes
23/06/26Miércoles
24/06/26

1) Realizar las siguientes sustracciones.

1)

		3	7	4	-
		1	2	3	
<hr/>					

2)

		8	7	6	-
		4	1	6	
<hr/>					

3)

		4	9	7	-
		2	5	4	
<hr/>					

4)

		6	4	9	-
		3	2	7	
<hr/>					

5)

		7	0	8	-
		3	6	5	
<hr/>					

6)

		4	3	5	-
		1	2	7	
<hr/>					

7)

		1	8	6	-
			9	1	
<hr/>					

8)

		2	4	0	-
		1	0	5	
<hr/>					


9)

		9	6	1	-
		1	2	4	
<hr/>					

1) Describir cómo imaginas tú comunidad dentro de 20 años.

2) Escribir un cambio que haya ocurrido en tú escuela recientemente.

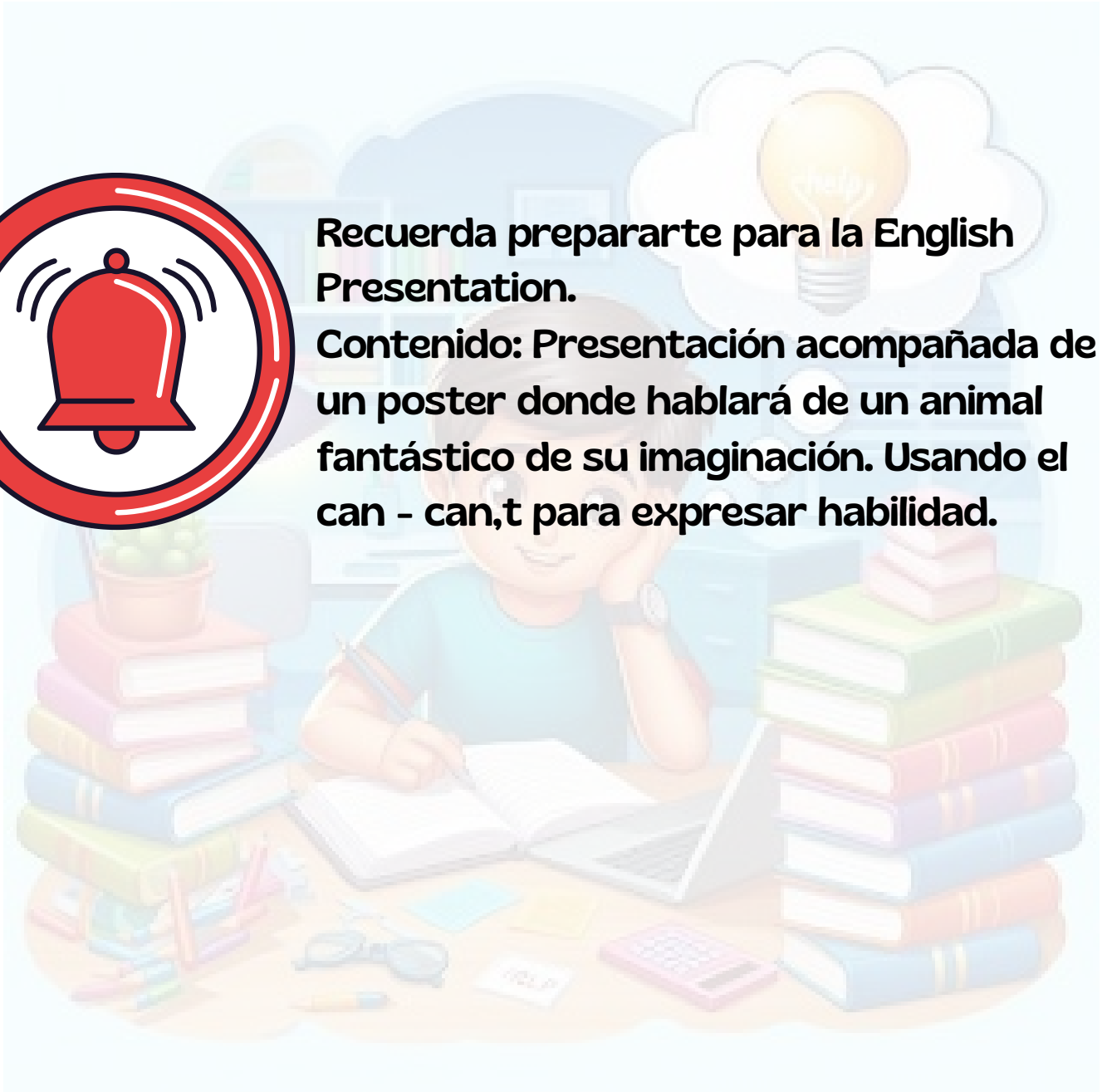
3) Encerrar con un círculo azul los elementos que son antiguos y de color rojo los modernos.





Recuerda prepararte para la English Presentation.

Contenido: Presentación acompañada de un poster donde hablará de un animal fantástico de su imaginación. Usando el can - can,t para expresar habilidad.



Semana 8

**Recordatorio
Ciencias Sociales 2**

Fecha de elaboración

**Jueves
25/06/26**

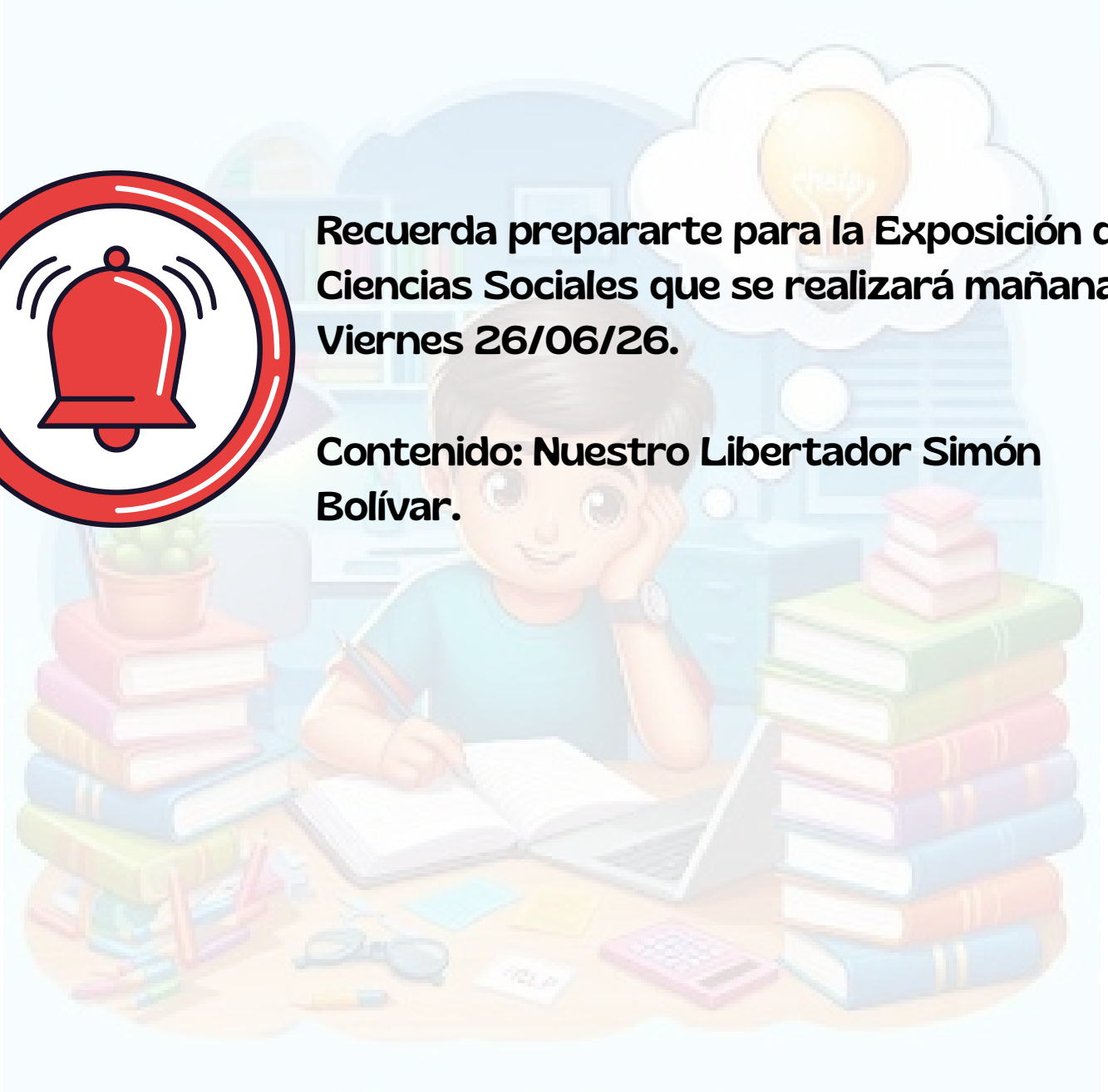
Fecha de entrega

**Viernes
26/06/26**



Recuerda prepararte para la Exposición de Ciencias Sociales que se realizará mañana Viernes 26/06/26.

Contenido: Nuestro Libertador Simón Bolívar.



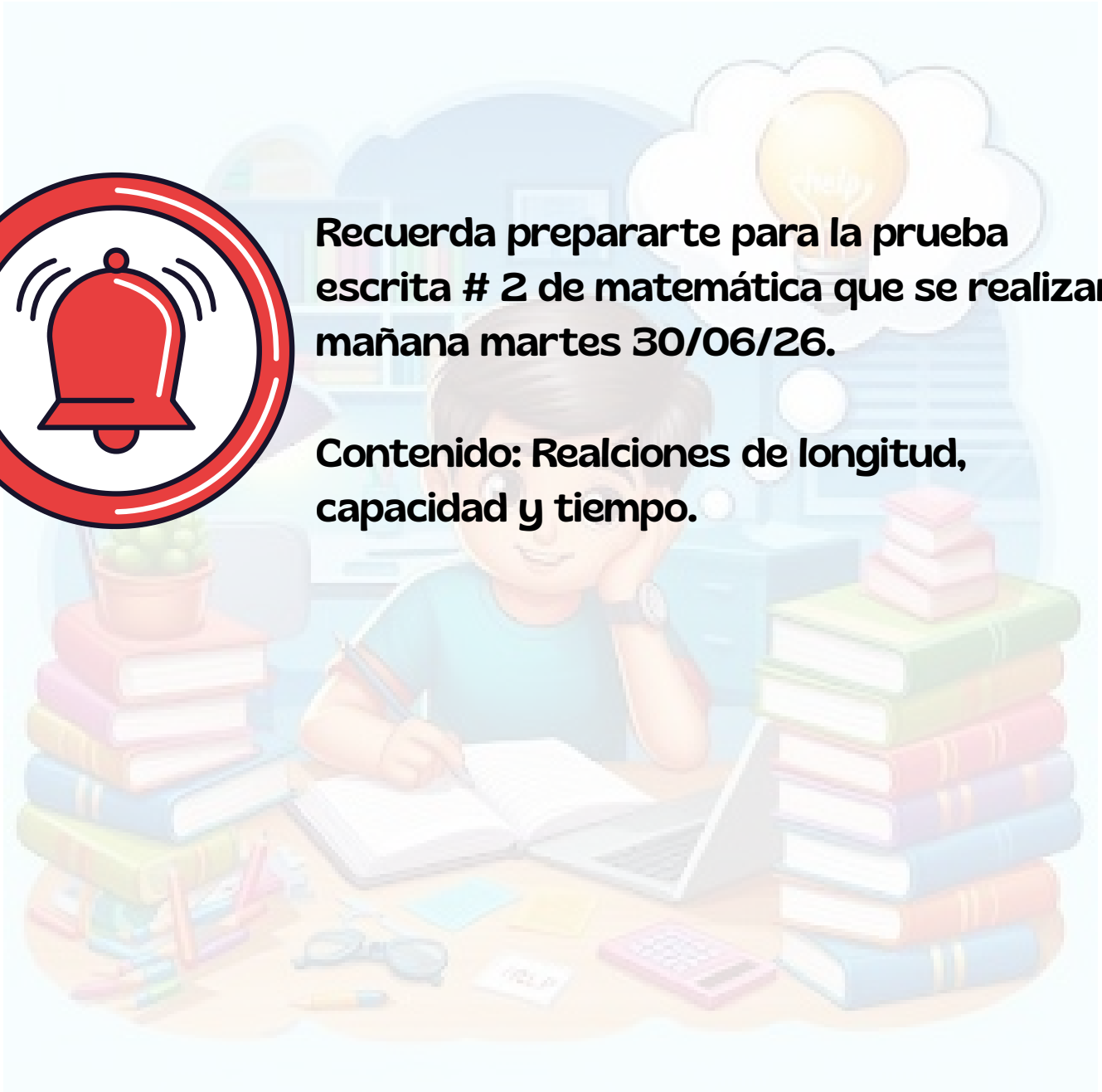
**Lunes
29/06/26**

**Martes
30/06/26**



Recuerda prepararte para la prueba escrita # 2 de matemática que se realizará mañana martes 30/06/26.

Contenido: Relaciones de longitud, capacidad y tiempo.



**Miércoles
01/07/26**

**Jueves
02/07/26**



Recuerda prepararte para la prueba escrita # 2 de lenguaje que se realizará mañana jueves 02/07/26.

Contenido: La oración y el párrafo, Las palabras y sus funciones.

