


Guía de

Actividades


Primer grado



NOMBRE:

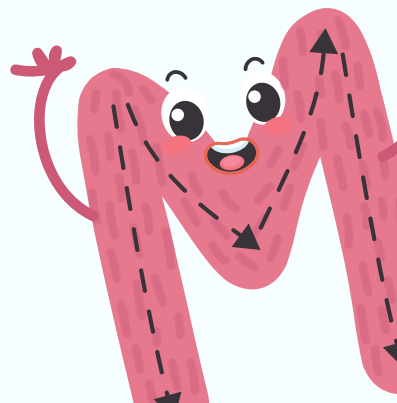


APELLIDO:

SECCIÓN:




2do lapso


AÑO ESCOLAR 2025-2026



**Observa las naves llegando al planeta.**



**1. Escribe en qué posición aterrizó cada nave. Mira el ejemplo.**



**2. ¿Cuál nave llegó última?  
Márcala con una x.**

**Unir las palabras con los dibujos.**



SOMBRERO



MURCIÉLAGO



FURGONETA



MAPA



SARTÉN



GATO



MOCHILA



GRIFO

Semana 1

Recordatorio

Fecha de elaboración

Miércoles  
14/01/26

Fecha de entrega

Jueves  
15/01/26

Lo que se aprende en primaria  
queda grabado en el corazón  
para siempre.



Jueves 15  
de enero

Día del  
educador

Fecha de elaboración

Jueves  
15/01/26

Fecha de entrega

Viernes  
16/01/26


Semana 1

Materia: Ciencias Sociales 1

### Mi árbol genealógico

Dibujarlos

Nombrarlos



Abuelos

Padres





Hijos



Lunes  
19/01/26





Martes  
20/01/26



Completa la secuencia





Rodea el vehículo que completa la serie.



1.    





 



2.    





 



3.    

4.    

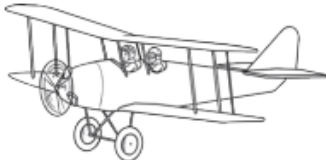

5.    

Martes  
20/01/26

Miércoles  
21/01/26

Colorea las imágenes cuyo nombres  
inicien con la letra S





Miércoles  
21/01/26

Jueves  
22/01/26

19) ¿Qué es una sílaba tónica? Colorea la respuesta correcta.

Sílaba **TÓNICA**



GATO

GA - TO  
tónica átona

Es la que se pronuncia con mayor intensidad en una palabra.

La sílaba tónica es la última letra de la palabra.

Es la sílaba que suena más bajito que las demás.

20) ¿Cuáles son los elementos de la adición?

$$\begin{array}{r} 46 \\ + 15 \\ \hline 61 \end{array}$$



21) ¿Quiénes diseñaron el arco que rinde homenaje a la Batalla de Carabobo?



22) ¿Qué país fue sede de los juegos olímpicos 2020? Encierra con un círculo la respuesta correcta.



23) ¿Cuándo fue la Batalla de Carabobo?



24) ¿Cuál es el Salto de agua más alto del mundo? Colorea la respuesta correcta.



Salto Ángel  
(Kerepakupai Vena)

Cataratas del  
Niágara

Cascada Gullfoss

**Miércoles**  
**21/01/26**

**Jueves**  
**22/01/26**

25) ¿Qué es la tilde?

---

---

---

---

26) ¿Cuáles son los elementos de la sustracción?

$$\begin{array}{r} 97 \\ - 24 \\ \hline 73 \end{array}$$

←

←

←

27) ¿En qué fecha fue inaugurado El Teatro Municipal de Valencia? Colorea la respuesta correcta.



El 07 de marzo de  
1987

El 21 de enero de  
1915

El 15 de febrero  
de 1895

28) ¿Qué país ganó el Mundial de Fútbol Rusia 2018? Marca con una X la respuesta.

a	Alemania	
b	España	
c	Francia	
d	Inglaterra	

29) ¿Qué presidente decreta la abolición de la esclavitud en Venezuela? Marca con una X la respuesta.

a	José Gregorio Monagas.	
b	Carlos Andrés Pérez	
c	Rómulo Betancourt	
d	Marcos Pérez Jiménez	

30) ¿Cuál es la división político-territorial de Venezuela?



Número de estados:

Distrito Capital:

\_\_\_\_\_

\_\_\_\_\_

**Jueves**  
**22/01/26****viernes**  
**23/01/26**

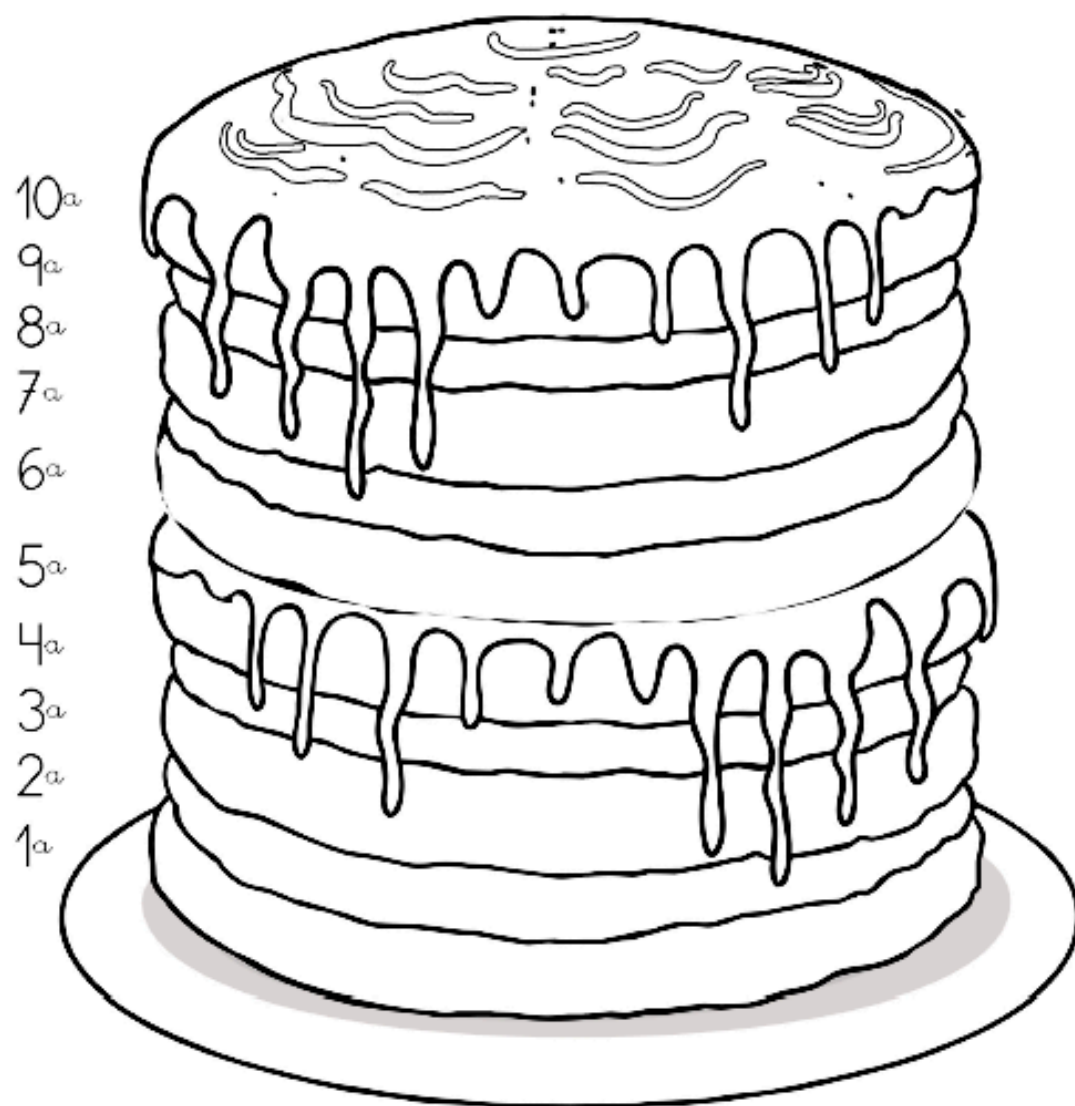
**Recuerda prepararte para la prueba escrita de inglés “Written Test” para mañana viernes 23/01/26.**

**Contenido: Numbers, There is - are, how many?**

**Lunes**  
**26/01/26**

**Martes**  
**27/01/26**

**Colorea las capas del pastel según las instrucciones.**




- La primera capa es verde
- La décima capa es naranja
- La tercera capa es negra
- La novena capa es blanca
- La segunda capa es amarilla
- La octava capa es roja
- La cuarta capa es azul
- La séptima capa es violeta
- La sexta capa es gris
- La quinta capa es rosa



**Martes**  
**27/01/26**


**Miércoles**  
**28/01/26**

31) ¿Cómo se clasifican las palabras, según el lugar que ocupa la sílaba tónica?



32) ¿Cuál es la base del Sistema Métrico Decimal? Marca con una X la respuesta.

a	Metro	
b	Centímetro	
c	Milímetro	
d	Hectómetro	



33) ¿En qué fecha se fundó el Ateneo de Valencia?



\_\_\_\_\_

34) ¿Cómo se llama el Estadio sede del equipo Los Tigres de Aragua?



\_\_\_\_\_

\_\_\_\_\_

35) ¿Cuál es el lago más grande de Sudamérica, y dónde está ubicado?



\_\_\_\_\_

\_\_\_\_\_

36) ¿Quién es el Gran Mariscal de Ayacucho? Colorea la respuesta correcta.



Antonio José de  
Sucre

Francisco de  
Miranda

José Antonio Páez

**Continuar en la siguiente página.**

**Martes**  
**27/01/26**

**Miércoles**  
**28/01/26**

37) ¿Cuándo se acentúan las palabras agudas?


---

---

---

---

38) ¿Cuántos centímetros tiene un metro?  
Colorea la respuesta correcta.



10 centímetros

100 centímetros

1000 centímetros

39) ¿Quién es el autor del mural La evolución de la tierra, ubicado en el Edificio Cámara de Comercio de Valencia? Colorea la respuesta correcta.



Luis Acosta

Mauricio Azuaje

Braulio Salazar

40) ¿Dónde queda el estadio de béisbol Antonio Herrera Gutiérrez?



41) ¿Qué nombre recibía la Iglesia que fue transformada en 1874 en Panteón Nacional? Marca con una X la respuesta.

a	Iglesia de La Trinidad.	
b	Basílica de Santa Teresa.	
c	Iglesia de La Asunción.	
d	Basílica de Nuestra Señora de Coromoto	

42) ¿En qué Estado de Venezuela está ubicado el Puente Rafael Urdaneta?




---

---

**Semana 3**

**Recordatorio Ciencias Sociales 1**

Fecha de elaboración

**Miércoles  
28/01/26**

Fecha de entrega

**Jueves  
29/01/26**



**Recuerda prepararte para la actividad en  
clases de Ciencias Sociales, que se realizará  
mañana jueves 29/01/26**

**Contenido: La comunidad escolar y su  
organización.**

**Semana 3**

**Materia: Inglés 1**

Fecha de elaboración

**Jueves  
29/01/26**

Fecha de entrega

**viernes  
30/01/26**

11. What's the name of a small house  
made of ice?



13. Write the numbers in letters.

1

4

8

3

12. What is the popular name for the  
spelling contests in English?



a) Sleeping bii



b) Spell contests



c) Spelling bee



c) Spelling tournament

14. In the family tree, who is my mom's mother?



a) Mother



b) Son



c) Grandmother



c) Father

15. How do we say in English "Eso es un lápiz verde"?



a) It's a blue pencil.



b) They're green pencils.



c) It's a green pencil.



d) They're yellow pencils.

**Lunes**  
**02/02/26****Martes**  
**03/02/26**

**Recuerda prepararte para la actividad en clases de Ciencias Naturales, que se realizará mañana martes 03/02/26**

**Contenido: Los sentidos del cuerpo humano.**

**Martes**  
**03/02/26****Miércoles**  
**04/02/26**

43) ¿Cuándo se acentúan las palabras graves?

---

---

---

---

44) ¿Cuántos metros tiene un kilómetro? Colorea la respuesta correcta.



100 metros

1000 metros

10000 metros

**Continuar en la siguiente página.**

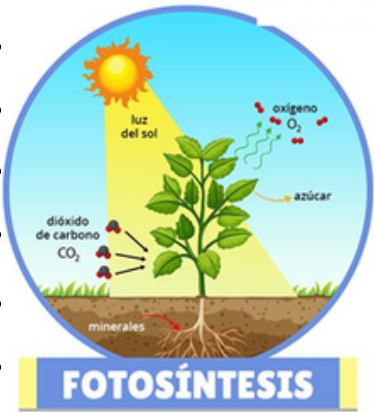


45) ¿En qué fecha fue creada la escuela de artes plásticas Arturo Michelena? Colorea la respuesta correcta.



- El 12 de febrero de 1948
- El 24 de junio de 1950
- El 15 de marzo de 1913

46) ¿Qué es la fotosíntesis?



47) ¿Qué presidente de Venezuela apodaban “El cabito”? Colorea la respuesta correcta.



- Cipriano Castro
- Eleazar López Contreras
- Juan Vicente Gómez

Fecha de elaboración

Martes  
03/02/26

Fecha de entrega

Miércoles  
04/02/26

48) ¿Dónde se encuentra ubicado el parque Henri Pittier?



49) ¿Cuándo se acentúan las palabras esdrújulas?

50) ¿Cuál es la unidad básica del peso? Encierra con un círculo la respuesta correcta.



Decagramo



Hectogramo



Kilogramo



Gramo

**Miércoles  
04/02/26****Jueves  
05/02/26**

**Recuerda prepararte para la actividad en clases de Matemáticas, que se realizará mañana jueves 05/02/26**

**Contenido: Mayor que, menor que, descomposición de números naturales.**

**Jueves  
05/02/26****Viernes  
06/02/26**

**Recuerda prepararte para la evaluación de “Clasificatoria SPELLING BEE” que se realizará mañana viernes 06/02/26.**

**Contenido: Lista de palabras para el spelling bee.**

**Semana 5**

**Recordatorio Lenguaje 1**

Fecha de elaboración

**Lunes**  
**09/02/26**

Fecha de entrega

**Martes**  
**10/02/26**



**Recuerda prepararte para la actividad en  
clases de Lenguaje, que se realizará  
mañana martes 10/02/2026**

**Contenido: La narración, textos orales  
narrativos.**

**Semana 5**

**Materia: Lenguaje 3**

Fecha de elaboración


**Martes**  
**10/02/26**

Fecha de entrega

**Miércoles**  
**11/02/26**

## **Comprensión Lectora**

**Lee y colorea el dibujo de la forma indicada.**



1. Mi brazo izquierdo es amarillo.
2. Mi pierna derecha es naranja.
3. Mis alas son violetas y naranjas.
4. Mi brazo derecho es azul.
5. Mi pierna izquierda es verde.
6. Mi cuerpo es azul y negro.

**Semana 5**

**Materia: Ciencias Naturales 1**

Fecha de elaboración

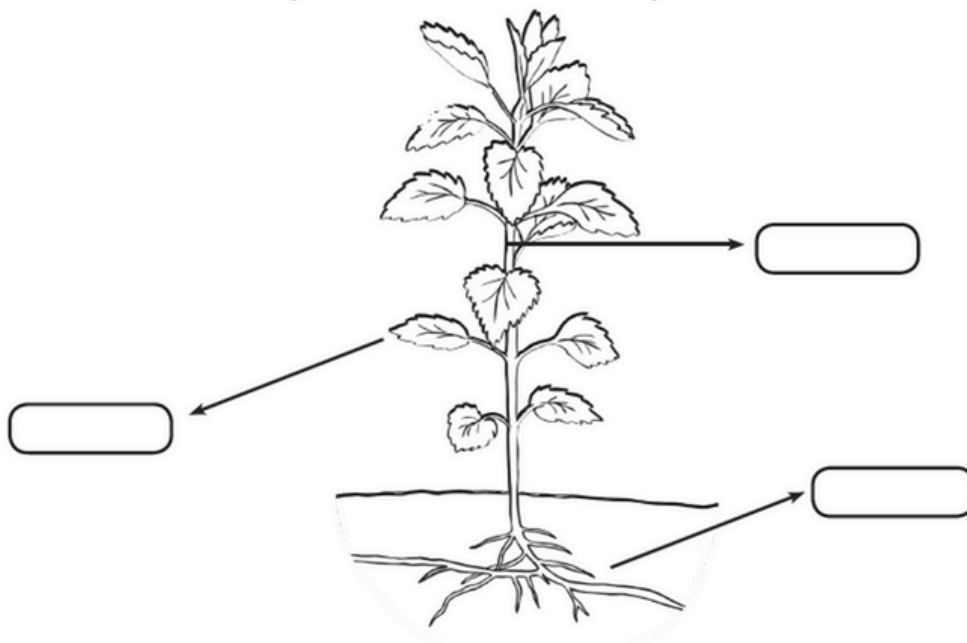
**Miércoles  
11/02/26**

Fecha de entrega

**Jueves  
12/02/26**

**Menciona y colorea las partes de las plantas**

*Las partes de la planta*



*Hoja*

*Tallo*

*Raíz*

**Semana 5**

**Recordatorio Matemática 2**

Fecha de elaboración

**Jueves  
12/02/26**

Fecha de entrega

**Viernes  
13/02/26**



**Recuerda prepararte para la prueba  
escrita de matemática que se realizará  
mañana viernes 13/02/26**

**Contenido: Mayor que, menor que,  
descomposición de números naturales.**



# CARNAVAL



**Semana 6**

**Materia: Ciencias Sociales 2**

Fecha de elaboración

**Miércoles  
18/02/26**

Fecha de entrega

**Jueves  
19/02/26**

Observa con atención las imágenes, luego une con una línea cada actividad con el momento del día en que la realizas.



**Mañana**



**Tarde**



**Noche**



**Semana 6**

**Materia: Ciencias Naturales 2**

Fecha de elaboración


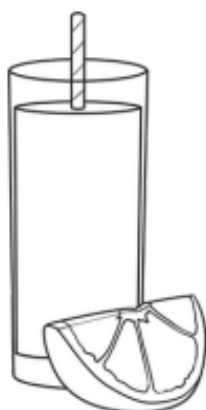
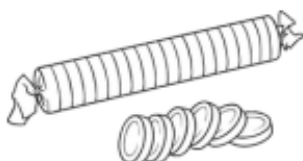
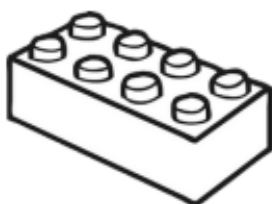
**Jueves  
19/02/26**

Fecha de entrega

**Viernes  
20/02/26**

## Nuestros sentidos- El gusto

Colorea las cosas que puedes saborear.



**Semana 7**

**Recordatorio Lenguaje 2**

Fecha de elaboración

**Lunes  
23/02/26**

Fecha de entrega

**Martes  
24/02/26**



**Recuerda prepararte para la prueba escrita de Lenguaje, que se realizará mañana martes 24/02/2026**

**Contenido: La narración, textos orales narrativos, secuencia de la narración.**

**Semana 7**

**Recordatorio Cultura General 1**

Fecha de elaboración

**Martes  
24/02/26**

Fecha de entrega

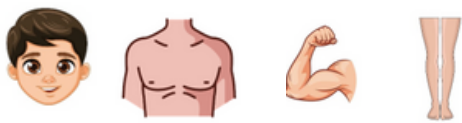
**Miércoles  
25/02/26**



**Recuerda prepararte para el interrogatorio de Cultura General, que se realizará mañana miércoles 25/02/2026**

**Contenido: Solo debes estudiar las preguntas de la tarea # 2 y # 3**

16. Match with a line the part of the body with the image.  
Use different colors to connect.



Head      Arm      Legs      Chest

17. How do you say “Mi casa is hermosa” in English?



20. Who was the first person to walk on the moon?

- a) George Washington
- b) Barack Obama
- c) Pável Popóvich
- d) Neil Armstrong



Fecha de elaboración

Miércoles  
25/02/26

Fecha de entrega

Jueves  
26/02/26

18. Write the parts of the house signaled.



19. Guess the riddle: I live in Africa, I am yellow and brown,  
I eat leaves, I have a long neck; Who am I?



a) A cow



b) A crocodile



c) A Giraffe

Fecha de elaboración



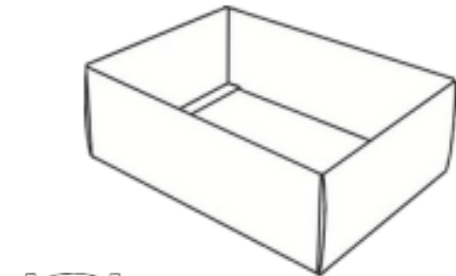
Jueves  
26/02/26

Fecha de entrega

Viernes  
27/02/26

# Nuestros sentidos - Audición

Colorea las cosas que NO puedes oír.





**Semana 8**

**Materia: Matemática 3**

Fecha de elaboración

**Lunes**  
**02/03/26**

Fecha de entrega

**Martes**  
**03/03/26**

## ¿Mayor o menor?

Escribe el símbolo correcto (<, >) en los recuadros ubicados entre los números.

12  35

43  27

36  41

28  92

46  32

88  56

8  10

88  91

77  16

21  98

58  57

96  95

Fecha de elaboración

**Martes**  
**03/03/26**

Fecha de entrega

**Miércoles**  
**04/03/26**

**Semana 8**

**Materia: Cultura General 4**

51) ¿Quién es el autor del Monolito ubicado en la Plaza Bolívar de Valencia?  
Colorea la respuesta correcta.

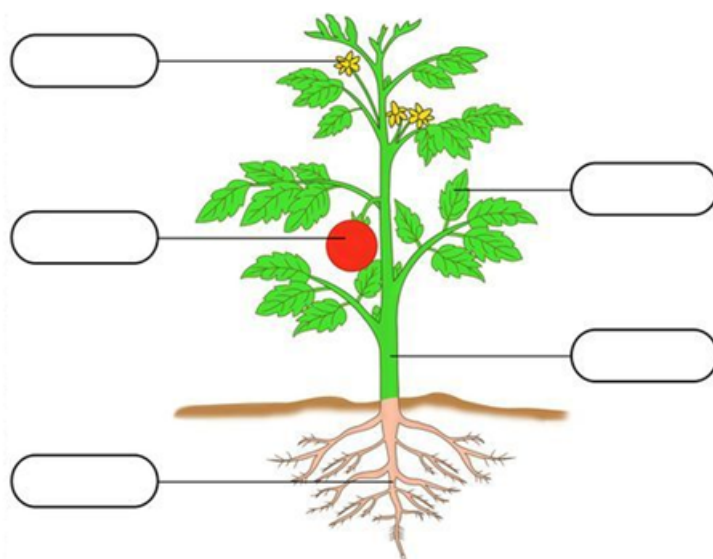


Jesús Rafael  
Soto

Francisco  
Narváez

Antonio  
Malaussena

52) ¿Cuáles son las partes de una planta?



Continuar en la siguiente página.

53) ¿Qué presidente de Venezuela fue conocido como "El benemérito"? Colorea la respuesta correcta.



Rómulo Gallegos

Juan Vicente Gómez

Isaías Medina Angarita

54) ¿En qué estado se encuentra ubicado el Parque Nacional Morrocoy? Colorea la respuesta correcta.



Estado Falcón

Estado Lara

Estado Zulia

55) ¿Qué son palabras homónimas?

---

---

---

---

---

---

---

---

---

---

56) ¿Cuántos gramos tiene un kilogramo?



57) ¿Quién es el autor de la escultura denominada La Bacante? Colorea la respuesta correcta.



Eloy Palacios

Francisco Narváez

Andrés Pérez Mujica

58) Señalar con una línea los órganos del aparato digestivo.

Boca

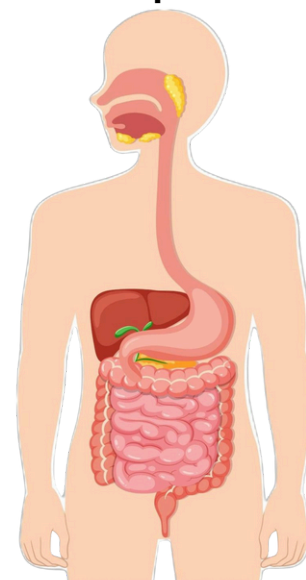
Esófago

Hígado

faringe

Estómago

intestinos



**Semana 8**

**Materia: Lenguaje 4**

Fecha de elaboración

**Miércoles  
04/03/26**

Fecha de entrega

**Jueves  
05/03/26**


**Elige una palabra que contenga la sílaba indicada, escríbela y dibuja lo que representa.**

pla

pri

plu

pre



Fecha de elaboración

**Jueves  
05/03/26**

Fecha de entrega

**Viernes  
06/03/26**

**Semana 8**

**Recordatorio Inglés 3**



**Recuerda prepararte para la actividad evaluada de inglés “Evaluated Activity” que se realizará mañana viernes 06/03/26**

**Contenido: Parts of the body.**

**Lunes**  
**09/03/26**

**Martes**  
**10/03/26**

Une con líneas de diferentes colores,  
el número expresado en palabras con la cifra que le corresponde:

9 11 19 6 15 12

seis

doce

quince

once

nueve

diecinueve

**Martes**  
**10/03/26**

**Miércoles**  
**11/03/26**

59) ¿Cuál es el último nombre que ha  
recibido la moneda venezolana?




---



---

60) ¿Cuál es la Cordillera de tierra firme  
más grande del Mundo?




---



---



Martes  
10/03/26

Miércoles  
11/03/26

61) ¿Qué son palabras sinónimas?

62) ¿Cuál es la unidad de medidas de capacidad? Colorea la respuesta correcta.



Litros

Mililitros

Decalitros


63) ¿Quién es el autor del Plafón del Teatro Municipal de Valencia?



64) ¿Cuál es la principal función de la sangre? Marca con una x la respuesta correcta.

a	Su principal tarea es mantener frescas las bebidas que consumimos	
b	La sangre tiene la función de digerir los alimentos y descomponerlos en nutrientes	
c	Llevar oxígeno al organismo, transportar los nutrientes.	
d	La sangre se encarga de la filtración primaria de la orina, eliminando toxinas y exceso de agua	

65) ¿Dónde y cuándo nació Antonio José de Sucre?



66) ¿Cuáles son los Continentes de la tierra?



1.

2.

3.

4.

5.



## Semana 9

### Materia: Ciencias Sociales 3

Dibuja en cada recuadro y en orden cronológico 3 diferentes, actividades de rutina que haces antes de ir al colegio.

Fecha de elaboración

**Miércoles**  
**11/03/26**

Fecha de entrega

**Jueves**  
**12/03/26**

**Primero**

**Después**

**Finalmente**

## Semana 9

### Materia: Ciencias Naturales 3

Une con una línea cada uno de los 5 sentidos con las partes del cuerpo que le corresponde:

Fecha de elaboración

**Jueves**  
**12/03/26**

Fecha de entrega

**Viernes**  
**13/03/26**

Visión

Tacto

Olfato

Gusto

Audición



Lunes  
16/03/26Martes  
17/03/26

**Recuerda prepararte para la actividad en clase de Lenguaje que se realizará mañana martes 17/03/2026**

**Contenido: La descripción, textos orales instruccionales.**

Martes  
17/03/26Miércoles  
18/03/26

67) ¿Qué son palabras antónimas?

---

---

---

---

---

---

68) ¿Cuántos minutos y segundos tiene una hora?

Minutos:

Segundos:



**Martes**  
**17/03/26**

**Miércoles**  
**18/03/26**

69) ¿Quién es el arquitecto de la Abadía Benedictina de San José? Marca con una x la respuesta correcta.

a	Jesús Tenreiro Degwitz	
b	Carlos Raúl Villanueva	
c	Tomás José Sanabria	
d	Cipriano Domínguez	

70) ¿Cómo se clasifican los alimentos según su origen?



71) ¿Qué prócer venezolano se conoce como el "Centauro de los Llanos"? Colorea la respuesta correcta.



José Tadeo Monagas

José María Vargas

José Antonio Páez

72) ¿Cuáles son las capitales de los siguientes estado?

Amazonas: \_\_\_\_\_

Anzoátegui: \_\_\_\_\_

Apure: \_\_\_\_\_

Aragua: \_\_\_\_\_

Barinas: \_\_\_\_\_

73) ¿Quién escribió la Novela Doña Barbara? Colorea la respuesta correcta.

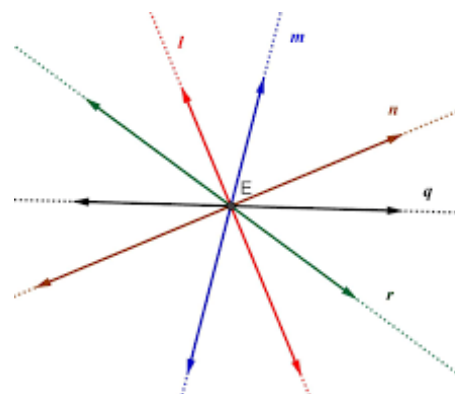
Arturo Usler Pietri

Rómulo Gallegos

Andrés Bello



74) ¿Cuántas rectas podemos pasar por un punto?




---



---



---

Miércoles  
18/03/26

Jueves  
19/03/26



**Recuerda prepararte para la actividad en clase de Matemática que se realizará mañana jueves 19/03/2026**

**Contenido: Adición de números naturales y propiedades, sustracción de números naturales.**

Jueves  
19/03/26

Viernes  
20/03/26

**Dibuja en los recuadros superiores a 3 integrantes de tu familia. Luego, escribe en el cuadro inferior el rol que cumplen los integrantes de tu familia en su día a día, como ir a estudiar, salir a trabajar, trabajar en la casa, cuidar a alguien.**

↓	↓	↓

Lunes  
23/03/26

Martes  
24/03/26

Observa con mucha atención los números, luego ordénalos de mayor a menor, de izquierda a derecha, en los vagones del tren:

5 12 3 10 20 8 11 15








Martes  
24/03/26

Miércoles  
25/03/26

Leer Palabras con Grupos Consonánticos

Lee y encierra en un círculo rojo la palabra con TR, PL , que corresponda a la imagen en cada caso.

	tractor	trayecto
	trabajo	trabajador
	trigal	trigo
	tristeza	trineo
	trenzados	buitre
	trencito	trenza
	trompo	trofeo
	trotar	tronco
	triturar	triste
	triángulo	triciclo

	plata	plano
	planta	plagio
	Plutón	plumillas
	plumero	pluma
	plasticina	plumón
	plástico	plomero
	plantar	diploma
	multiplicar	planetas
	plátanos	playa
	plato	plegar



**Miércoles**  
**25/03/26**

**Jueves**  
**26/03/26**



**Recuerda prepararte para la presentación oral de inglés que se realizará mañana jueves 26/03/26.**

**Recuerda traer tu “poster” con una foto tuya y de un familiar.**

**Contenido: Possessive Adjectives.**

**Jueves**  
**26/03/26**

**Viernes**  
**27/03/26**

**Observa cada una de las imágenes e identifica el sentido que usan. Marca con una X el sentido que están utilizando en cada situación.**

Estos niños están comiendo un rico helado:

- a) Olfato ☐
- b) Gusto ☐
- c) Tacto ☐



A Nicolás le gusta mucho el olor de las flores:

- a) Gusto ☐
- b) Olfato ☐
- c) Audición ☐



Emilio acaricia el suave pelaje de su gatito:

- a) Tacto ☐
- b) Gusto ☐
- c) Audición ☐



Josefa escucha su canción favorita:

- a) Tacto ☐
- b) Visión ☐
- c) Audición ☐



Lunes  
30/03/26

Viernes  
03/04/26

# Semana Santa



**Semana 13**

**Recordatorio Cultura General 2**

Fecha de elaboración

**Lunes  
06/04/26**

Fecha de entrega

**Martes  
07/04/26**



**Recuerda prepararte para el interrogatorio de Cultura General, que se realizará mañana martes 07/04/26**

**Contenido: solo debes estudiar las preguntas de la tarea # 5 y # 6**

**Semana 13**

**Materia: Ciencias Sociales 5**

Fecha de elaboración

**Martes  
07/04/26**

Fecha de entrega

**Miércoles  
08/04/26**

**Dibujo el lugar de mi escuela que más me agrada.**



**Semana 13**

**Recordatorio Matemática 4**

Fecha de elaboración

**Miércoles**  
**08/04/26**

Fecha de entrega

**Jueves**  
**09/04/26**



**Recuerda prepararte para la prueba  
escrita de Matemática que se realizará  
mañana jueves 09/04/26**

**Contenido: Adición de números naturales y  
propiedades, sustracción de números  
naturales.**

**Semana 13**

**Materia: Ciencias Naturales 5**

Fecha de elaboración

**Jueves**  
**09/04/26**

Fecha de entrega

**Viernes**  
**10/04/26**

**Dibuja un alimento que tenga uno  
de estos sabores:**

**Dulce**

**Ácido**

**Salado**

Lunes  
13/04/26

Martes  
14/04/26



Recuerda prepararte para la prueba escrita de Lenguaje que se realizará mañana martes 14/04/26

Contenido: La descripción, textos orales instruccionales, juego de palabras.

Martes  
14/04/26

Miércoles  
15/04/26

Palabras que empiezan con pl

pl. \_\_\_\_\_ 

pl. \_\_\_\_\_ 

pl. \_\_\_\_\_ 

pl. \_\_\_\_\_ 

pl. aza \_\_\_\_\_ 

pl. \_\_\_\_\_ 

pl. aya \_\_\_\_\_ 

pl. \_\_\_\_\_ 

pl. \_\_\_\_\_ 

pl. \_\_\_\_\_ 

a	b	c	d	e	f	g	h	i	j	k	p
p	n	o	p	q	r	p	t	u	v	w	l
l	l	a	b	c	d	e	l	g	h	i	a
a	l	u	n	p	p	q	r	a	t	u	t
t	x	y	m	l	p	c	d	p	y	g	i
a	j	k	l	a	n	l	p	l	r	a	l
n	v	w	x	t	z	a	a	a	d	e	l
o	h	i	j	o	l	m	n	n	p	q	o
s	t	u	v	w	x	y	z	t	e	c	s
e	p	l	u	m	e	r	o	a	n	t	p
q	r	s	p	l	a	z	a	y	z	a	a
c	p	l	a	n	c	h	a	k	l	m	n



**Semana 14**

**Recordatorio Ciencias Sociales 2**

Fecha de elaboración

**Miércoles  
15/04/26**

Fecha de entrega

**Jueves  
16/04/26**



**Recuerda prepararte para la prueba  
escrita de Ciencias Sociales que se  
realizará mañana jueves 16/04/26**

**Contenido: Orientación espacial, El paisaje  
geográfico y Conservación del ambiente.**

**Semana 14**

**Materia: Matemática 7**


Fecha de elaboración

**Jueves  
16/04/26**

Fecha de entrega

**Viernes  
17/04/26**

**Une los puntos siguiendo la secuencia  
numérica**



Lunes  
20/04/26

Martes  
21/04/26



Recuerda prepararte para la prueba escrita de Ciencias Naturales que se realizará mañana martes 21/04/26

Contenido: Componentes de la tierra.

Martes  
21/04/26

Miércoles  
22/04/26

Elige una palabra que contenga la sílaba indicada, escríbela y dibuja lo que representa.

bla

bre

blu

bli

bro

Brillante, público, blando, blanco, brote, pobre, niebla, nublado, invisible, bloqueador, sensible, libro, palabra.

F	I	G	D	T	J	S	E	N	S	I	B	L	E	O
V	A	T	B	W	Y	V	I	T	I	O	N	A	F	R
W	E	O	R	B	I	L	W	A	O	H	C	X	O	B
U	T	M	I	O	T	H	Z	V	V	R	C	G	Z	R
M	R	T	L	V	D	B	O	C	I	L	B	U	P	L
Y	I	Z	L	O	D	A	L	B	U	N	B	V	K	T
V	S	U	A	S	L	K	E	A	R	B	A	L	A	P
T	A	I	N	Q	S	V	Q	U	N	K	S	F	O	R
M	F	I	T	K	O	N	J	B	Q	C	X	Q	U	O
D	L	D	E	E	T	I	R	K	L	O	O	I	X	U
R	F	Q	I	F	R	E	C	N	O	A	L	E	T	A
I	N	V	I	S	I	B	L	E	Z	I	N	B	I	H
I	D	Q	K	U	S	L	O	B	Q	W	M	D	S	S
L	M	E	H	U	X	A	Y	P	L	J	H	A	O	Z
M	X	X	N	K	W	G	R	Z	W	D	E	U	X	A

Miércoles  
22/04/26

Jueves  
23/04/26



Recuerda prepararte para la actividad en clases evaluada de inglés que se realizará mañana jueves 23/04/26.

Contenido: Parts of the house,  
Prepositions of place, where is - are...?

Jueves  
23/04/26

Viernes  
24/04/26



Escribe una oración para cada una de las siguientes palabras.



bloqueador


brújula
